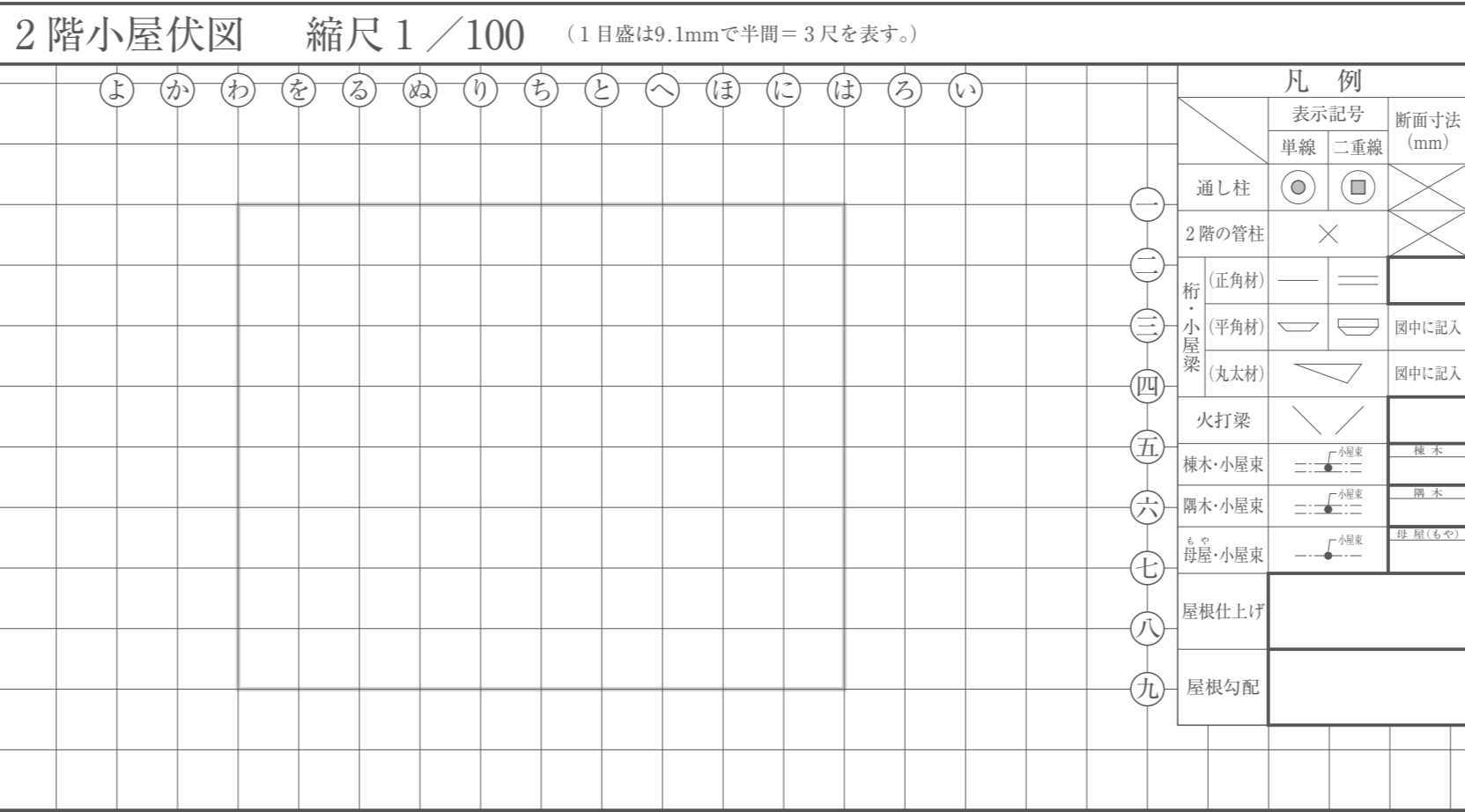
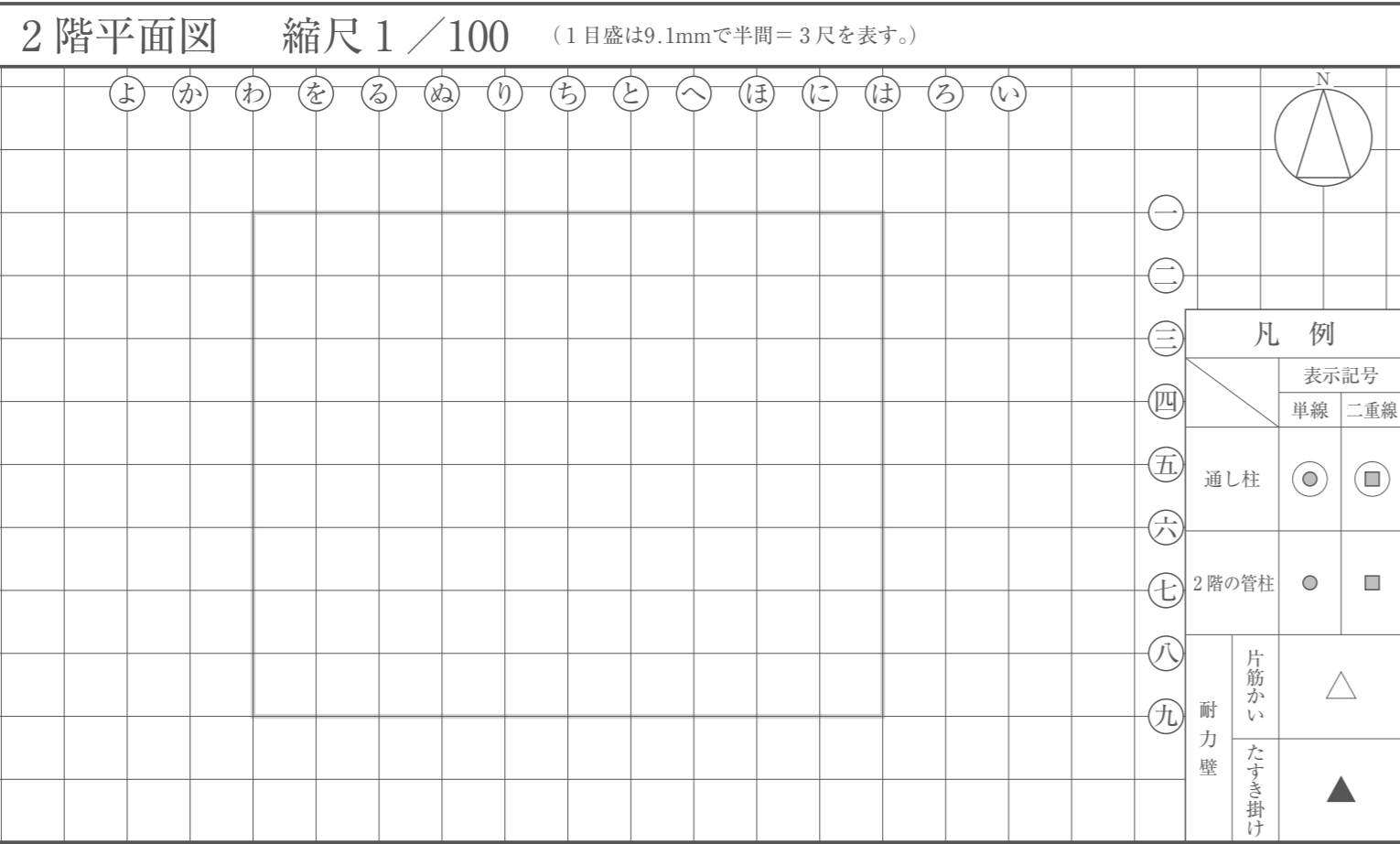


[注 意 事 項]

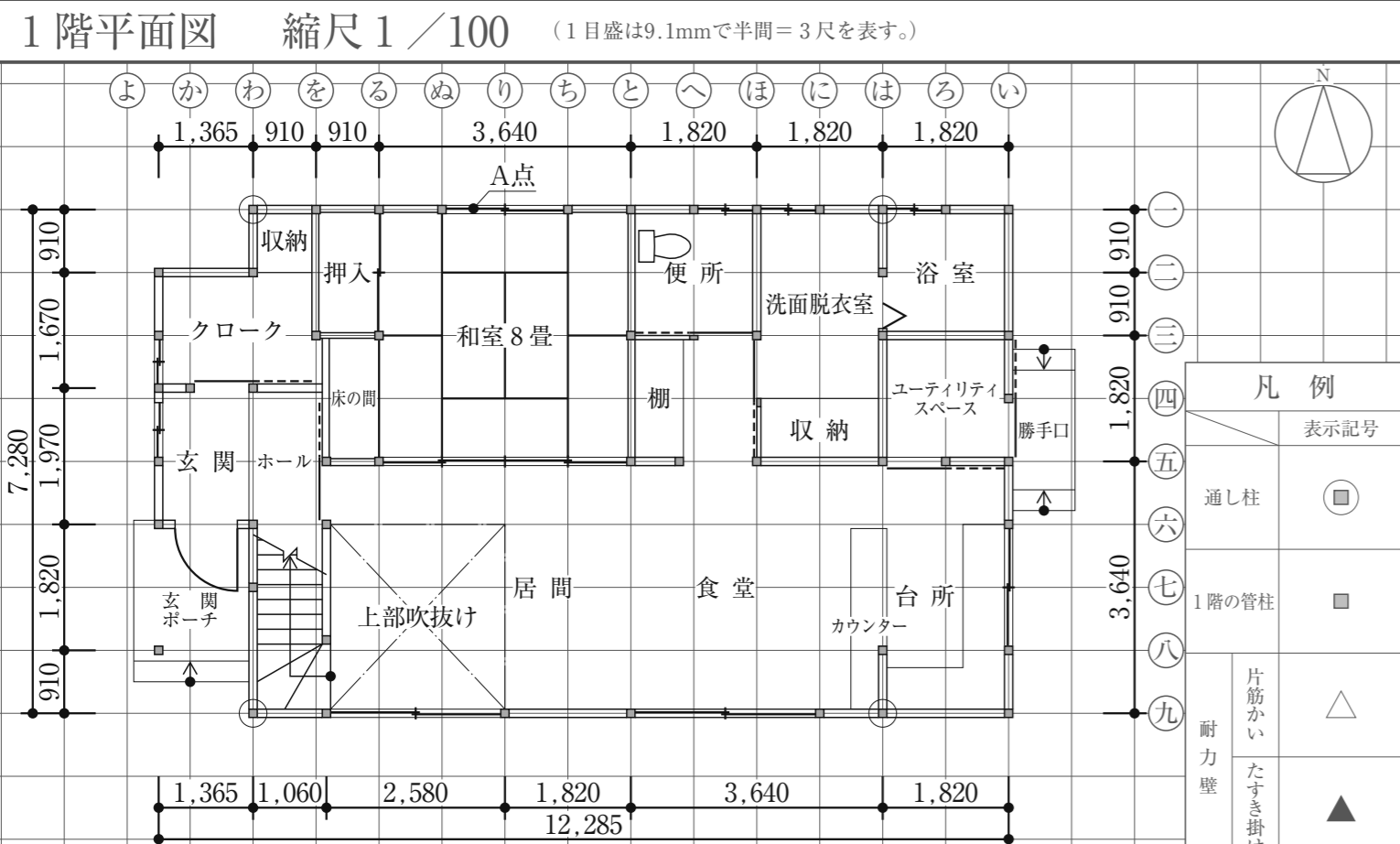
1. 問題用紙は、1枚です。
2. 答案用紙は、2枚あります。
「答案用紙A」: 柱杖^{はしらづえ}図を選択した場合の1枚
「答案用紙B」: 矩計図を選択した場合の1枚
3. この封筒、問題用紙、「答案用紙A」及び「答案用紙B」の4箇所全てに、試験場、受験番号及び氏名を記入して下さい。
4. 試験開始後、選択要求図書において、柱杖^{はしらづえ}図を選択した場合は「答案用紙A」を、矩計図を選択した場合は「答案用紙B」を使用し、この封筒の答案用紙の選択欄にある答案用紙A・答案用紙Bのいずれか一つを○で囲んで下さい。
5. 選択しなかった答案用紙(1枚)は、この封筒に入れて下さい。
6. 試験開始90分経過後、選択しなかった答案用紙(1枚)を入れたこの封筒を回収しますので、それまで(試験開始後90分)の間に答案用紙の選択を行って下さい。なお、回収後は答案用紙の選択の変更は一切できません。
7. 問題用紙については、試験終了まで試験室に在室した者に限り、持ち帰りを認めます。(中途退出者については、持ち帰りを禁止します。)
8. 「試験問題」を十分に読んだうえで、「設計製図の試験」に臨むようにして下さい。なお、解答内容が、設計条件を充たしていない場合や要求図書に対して不十分な場合には、「設計条件・要求図書に対する重大な不適合」と判断されます。

試 験 場	受 験 番 号	-	氏 名	答案用紙の選択	選択した答案用紙を○で囲んで下さい。	
					答案用紙A	答案用紙B

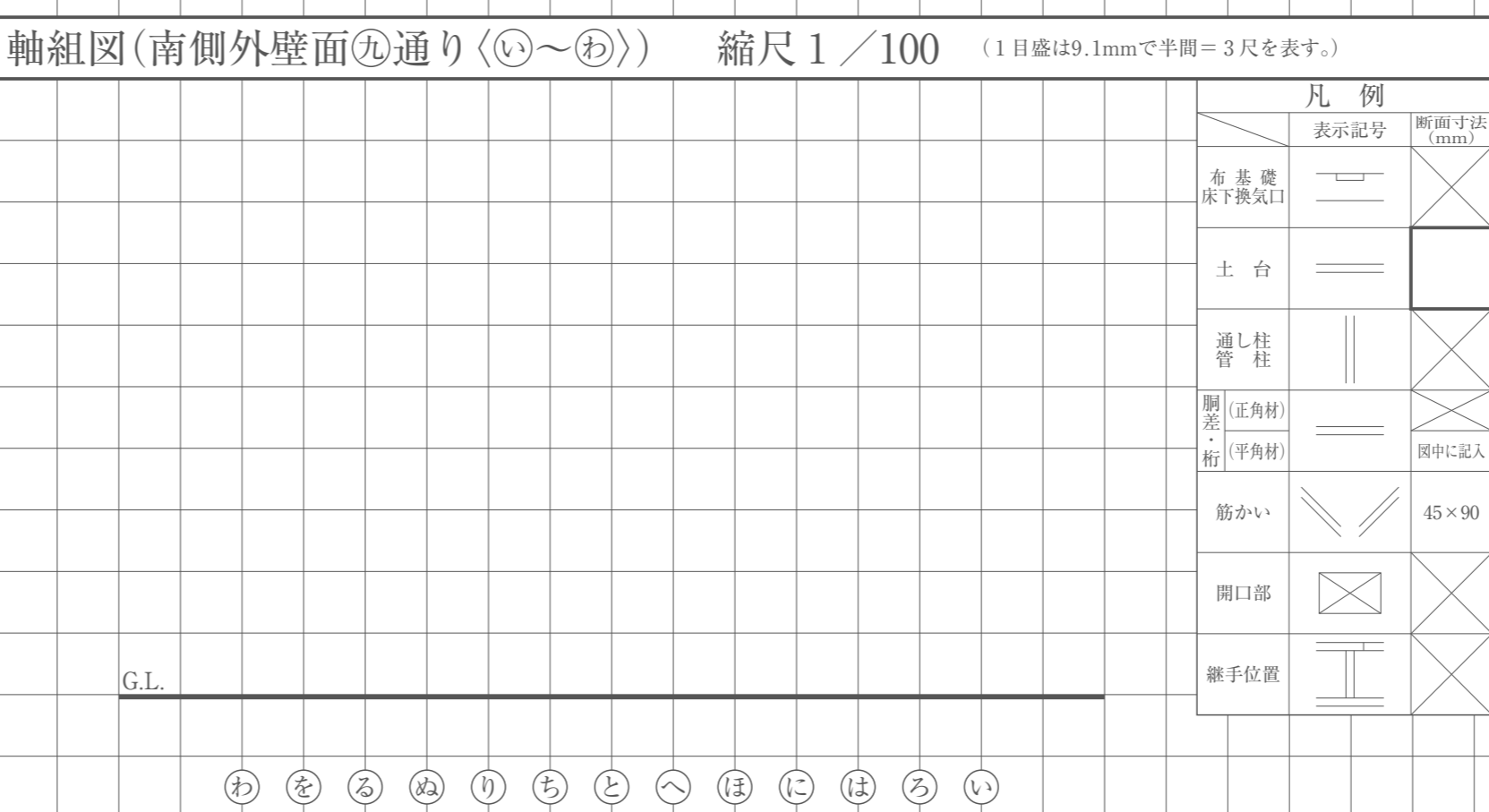
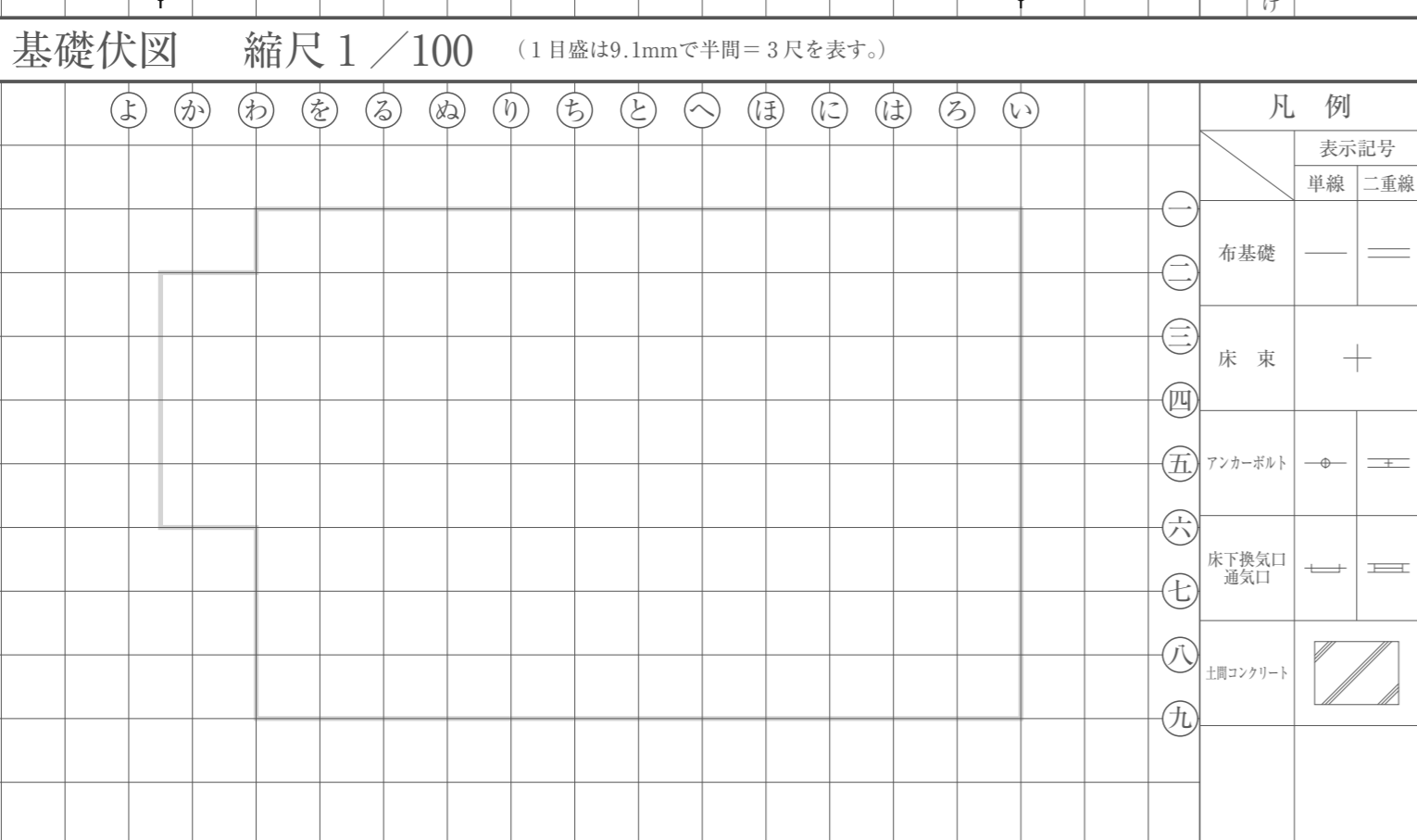
【この答案用紙は、柱杖図を選択した場合の専用答案用紙です。】



はしらづえ 柱杖の心	はしらづえ 柱杖の心	G.L. から 階上端までの高さ 欄 2 mm
---------------	---------------	-------------------------------



はしらづえ 柱杖の心	はしらづえ 柱杖の心	G.L. から 階上端までの高さ 欄 2 mm
---------------	---------------	-------------------------------



はしらづえ 柱杖の心	はしらづえ 柱杖の心	G.L. から 階上端までの高さ 欄 2 mm
---------------	---------------	-------------------------------

試験場 _____ 受験番号 _____

氏名 _____

※右欄には記入しないこと。

主要構造部材表 [木拾い書]

2階床伏図兼1階小屋伏図における胴差、2階床梁、桁及び1階小屋梁について、平角材、丸太材の木拾いを行い、下欄に記入すること。なお、正角材は木拾いを行わずによい。


部材名称	断面寸法(mm)	定尺長さ(mm)	本数	断面寸法(mm)	定尺長さ(mm)	本数	断面寸法(mm)	定尺長さ(mm)	本数
胴差	幅 × せい			幅 × せい			幅 × せい		
2階床梁	幅 × せい			幅 × せい			幅 × せい		
桁	幅 × せい			幅 × せい			幅 × せい		
1階小屋梁	幅 × せい			幅 × せい			幅 × せい		

凡例	部材名称	合印	部材名称	合印
	胴差・桁	☒	回り縁	☒
	土台	☒	鴨居(下端)	☒
	貫	☒	敷居(上端)	☒


令和元年 木造建築士試験「設計製図の試験」

答案用紙 A

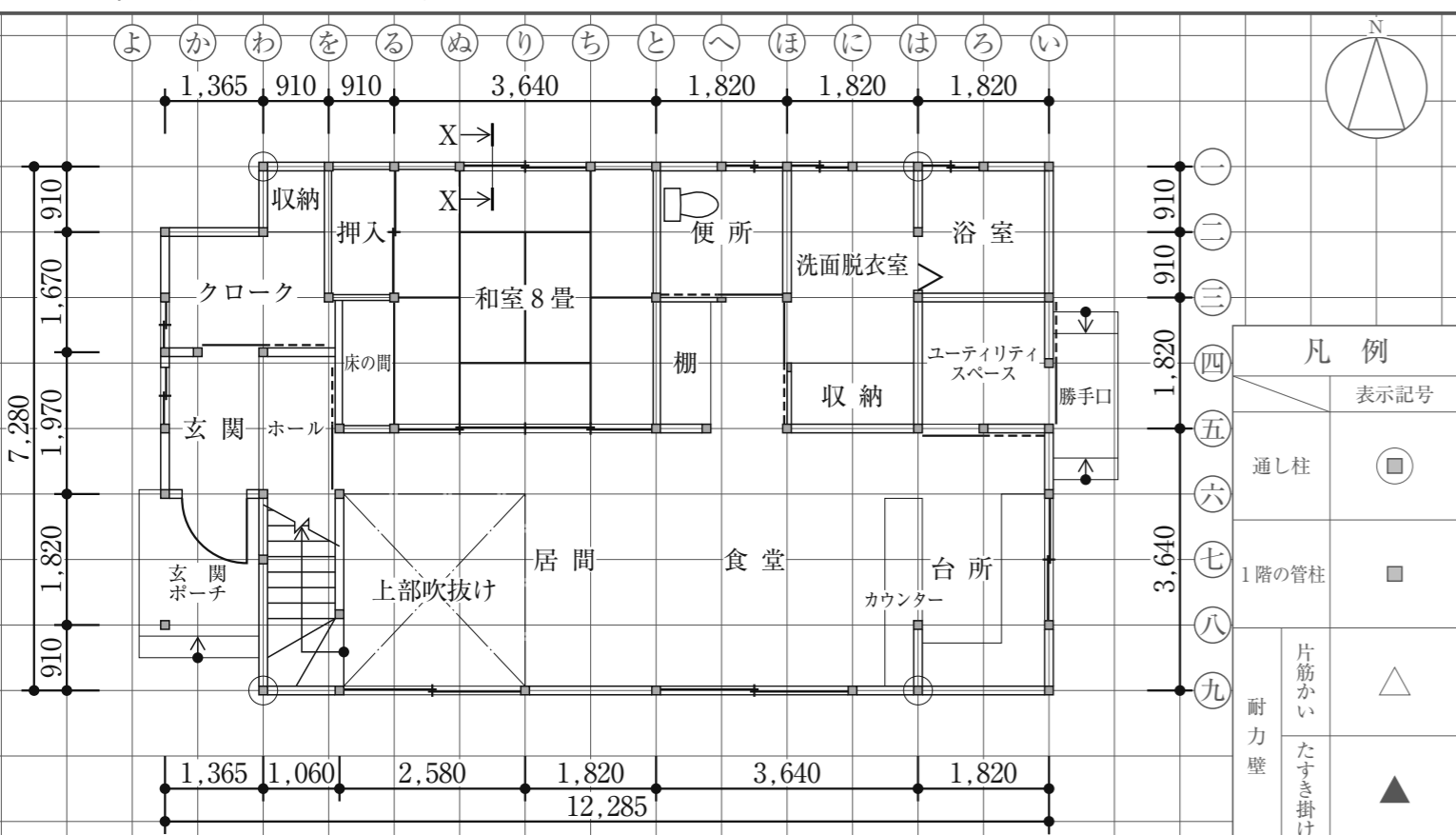
2階平面図 縮尺 1/100 (1目盛は9.1mmで半間=3尺を表す。)




2階小屋伏図 縮尺 1/100 (1目盛は9.1mmで半間=3尺を表す。)




1階平面図 縮尺 1/100 (1目盛は9.1mmで半間=3尺を表す。)



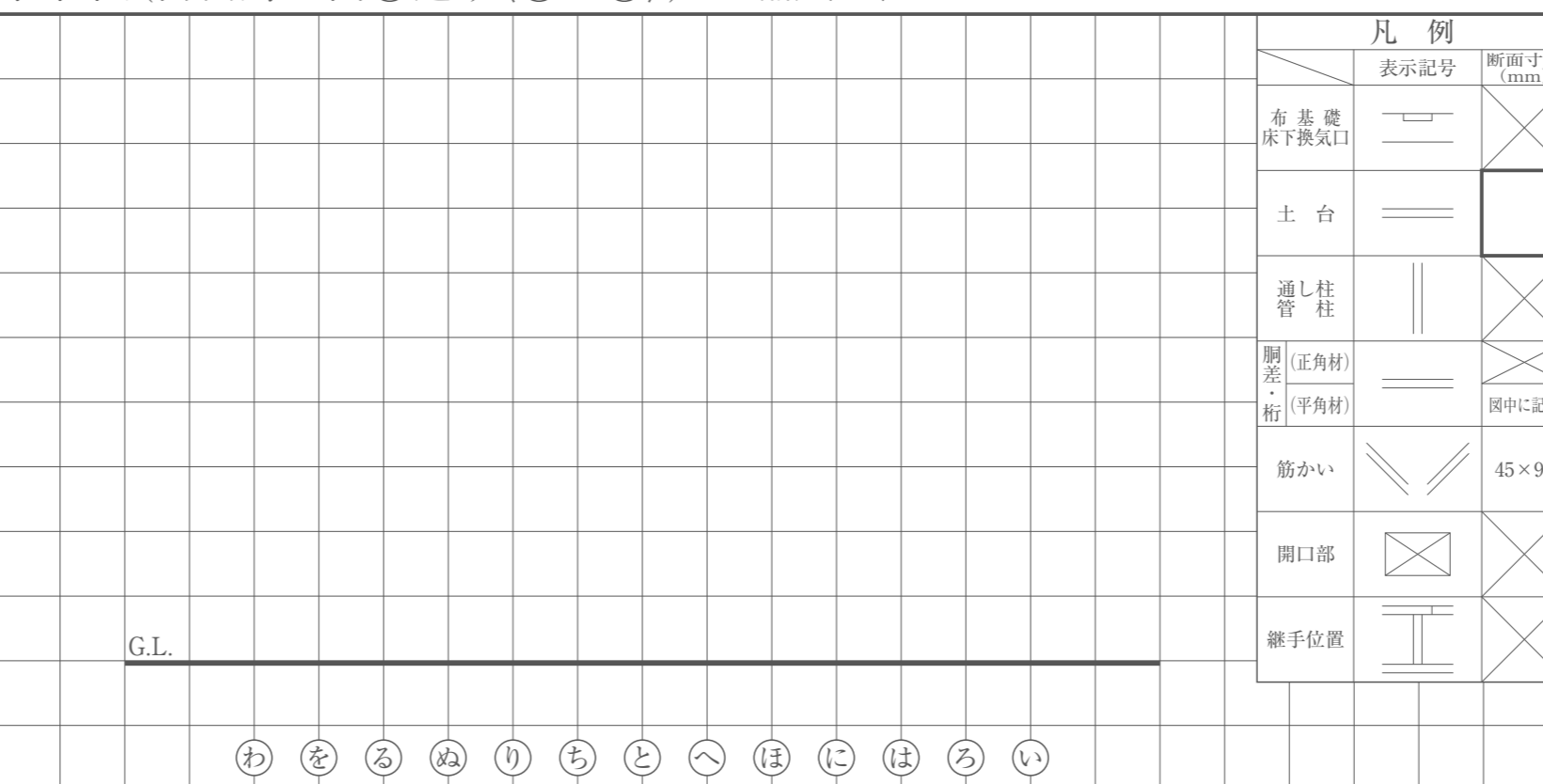
2階床伏図兼1階小屋伏図 縮尺 1/100 (1目盛は9.1mmで半間=3尺を表す。)



基礎伏図 縮尺 1/100 (1目盛は9.1mmで半間=3尺を表す。)



軸組図(南側外壁面⑨通り<④~⑥>) 縮尺 1/100 (1目盛は9.1mmで半間=3尺を表す。)



試験場 _____ 受験番号 _____

氏名 _____

1	2	3	4
5	6	7	8

※右欄には記入しないこと。

主要構造部材表 [木拾い書] 2階床伏図兼1階小屋伏図における胴差、2階床梁、桁及び1階小屋梁について、平角材、丸太材の木拾いを行い、下欄に記入すること。なお、正角材は木拾いを行わなくてよい。

部材名称	断面寸法(mm)	定尺長さ(mm)	本数	断面寸法(mm)	定尺長さ(mm)	本数	断面寸法(mm)	定尺長さ(mm)	本数
胴差	幅 × せい			幅 × せい			幅 × せい		
2階床梁	幅 × せい			幅 × せい			幅 × せい		
桁	幅 × せい			幅 × せい			幅 × せい		
1階小屋梁	幅 × せい			幅 × せい			幅 × せい		

令和元年 木造建築士試験「設計製図の試験」

答案用紙 B