

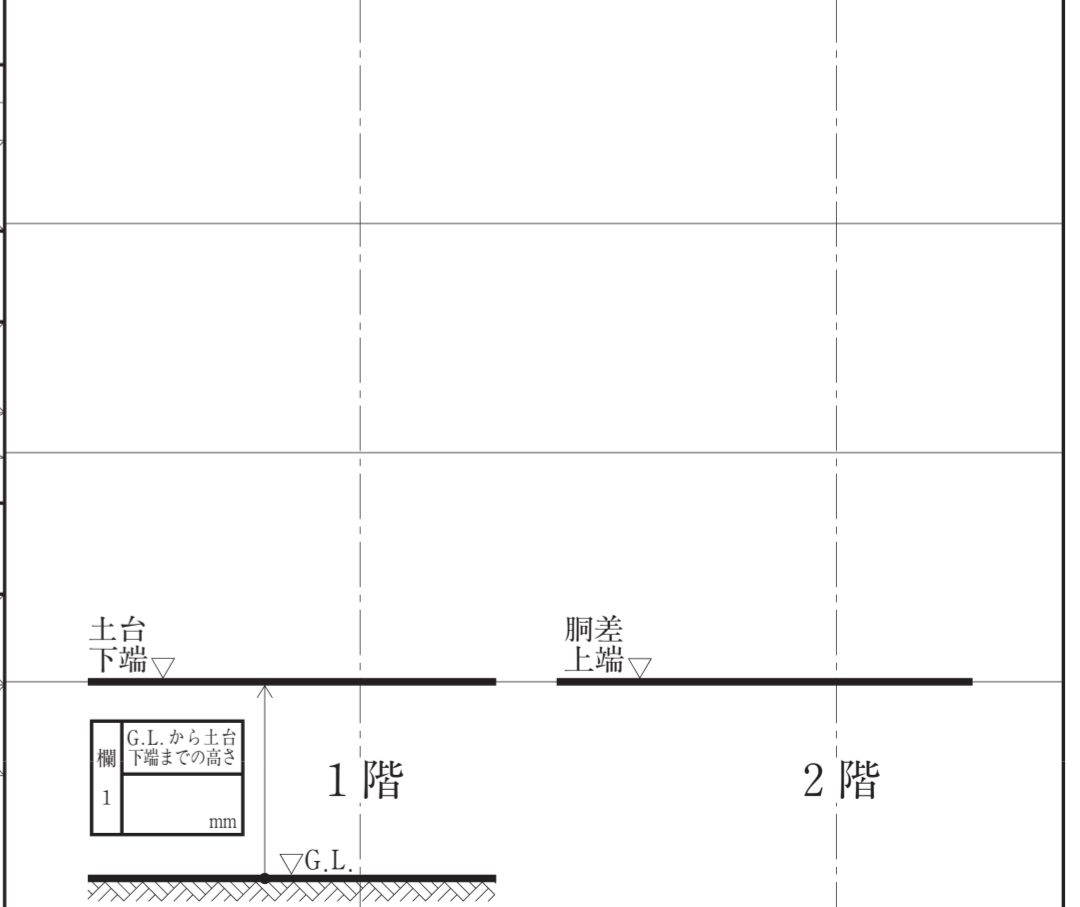
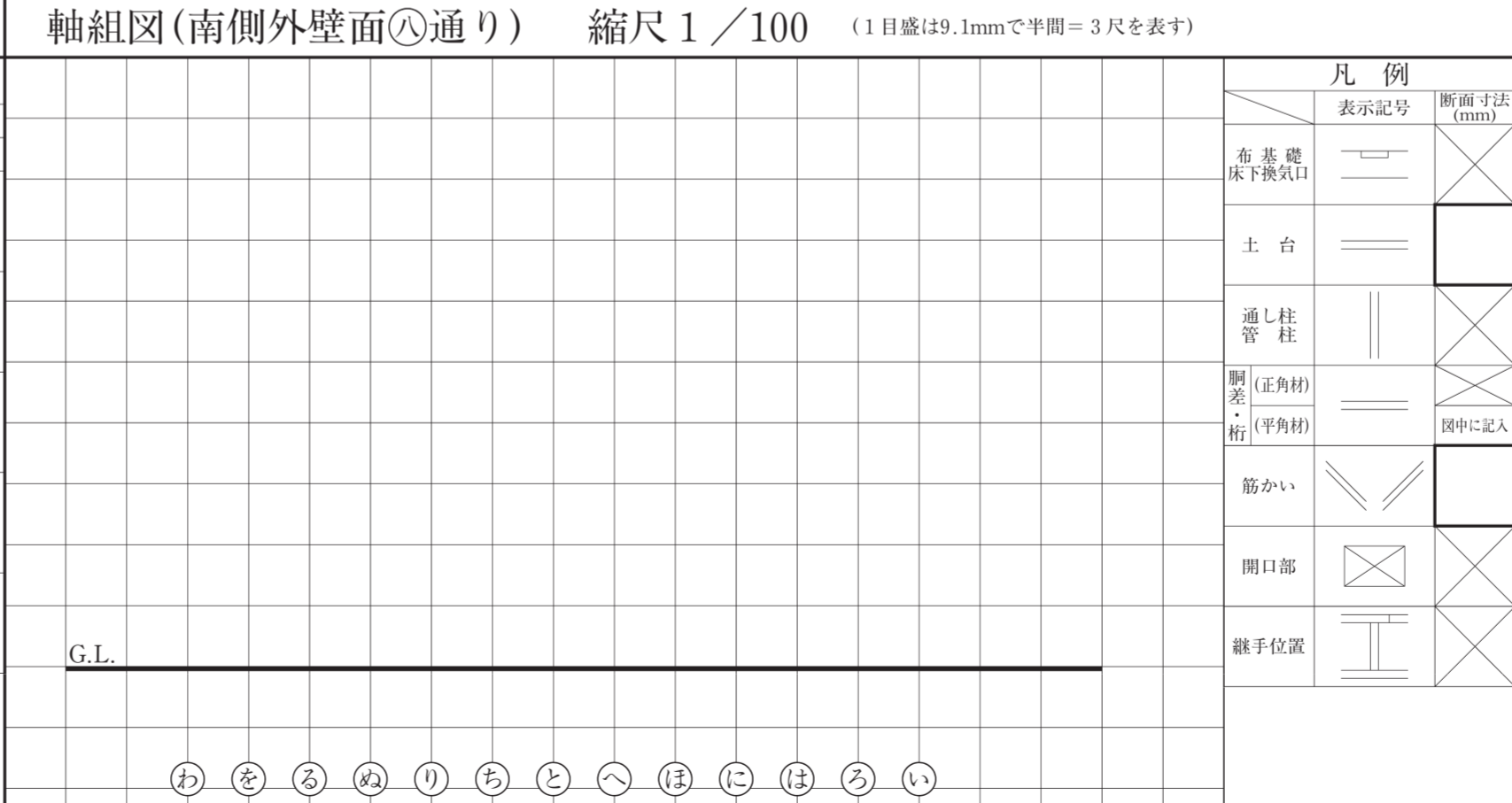
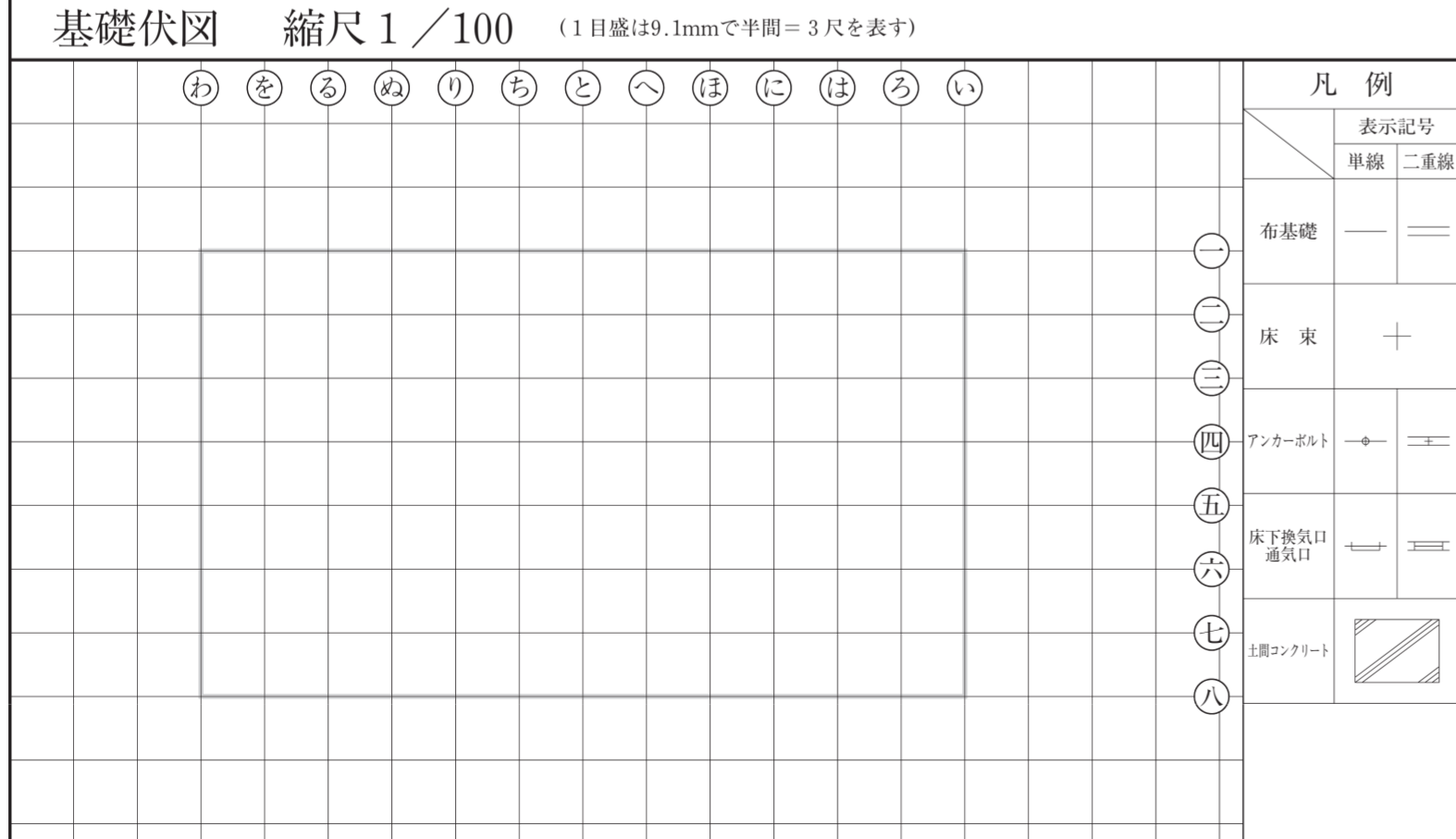

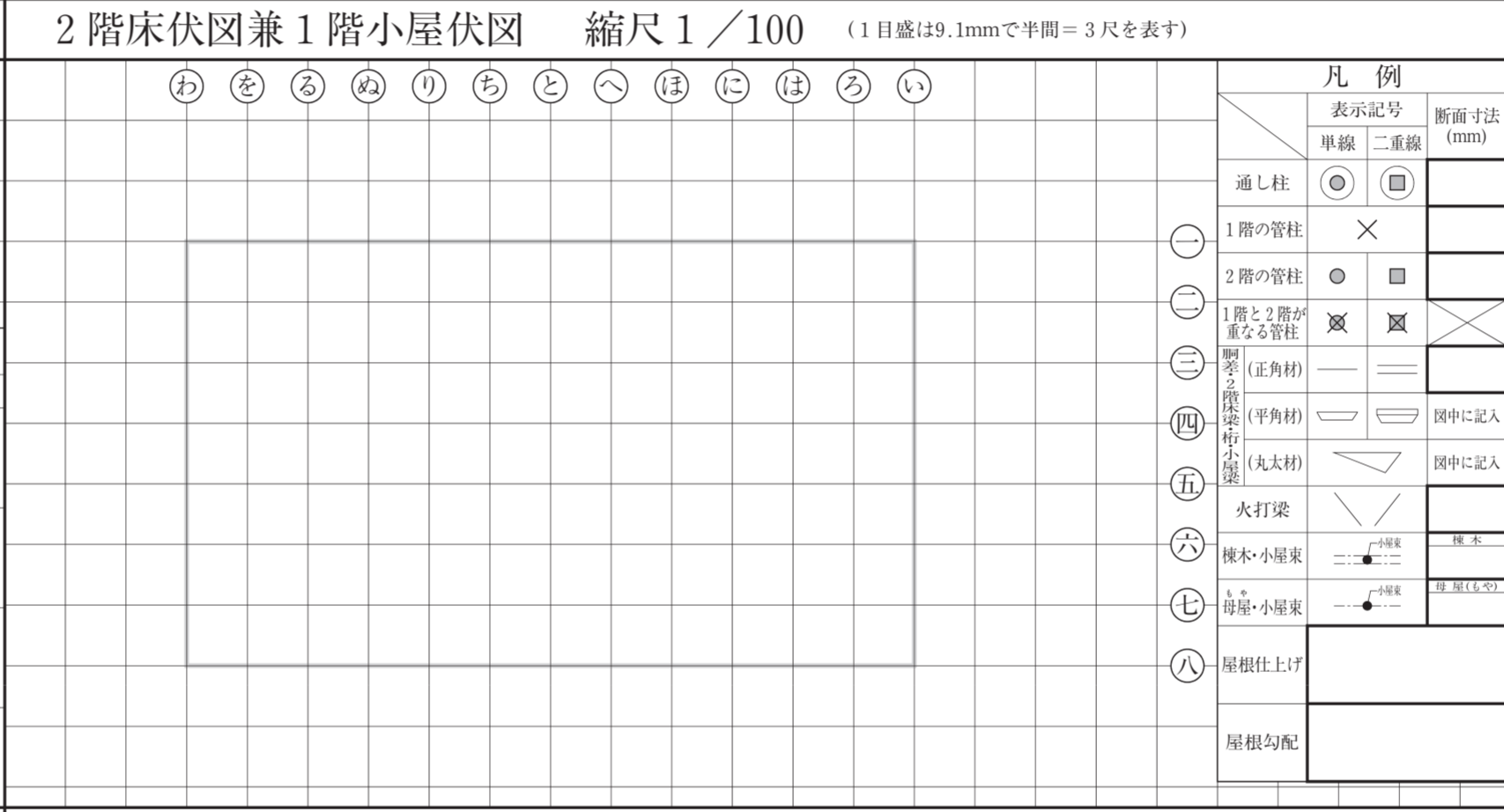
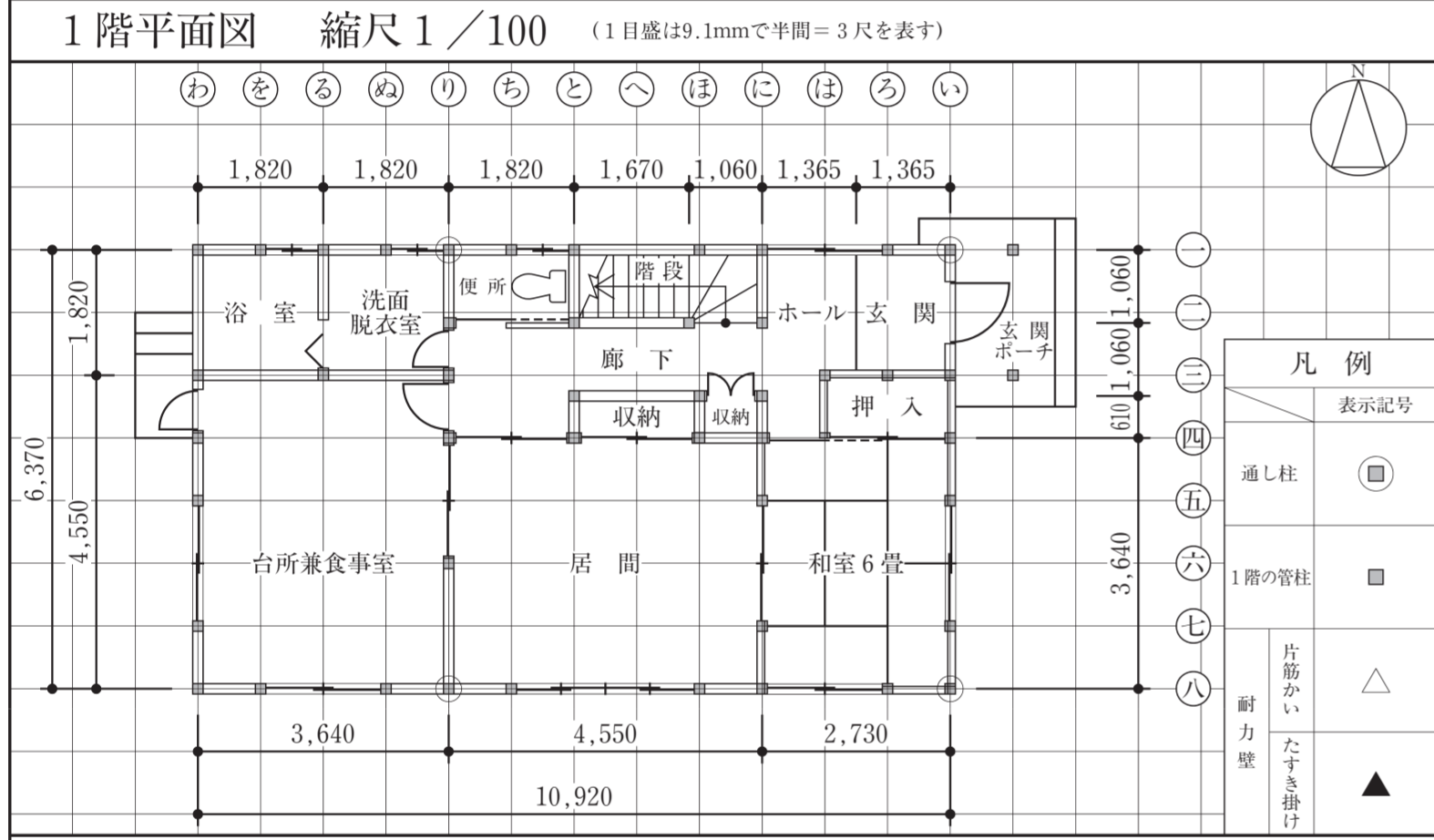
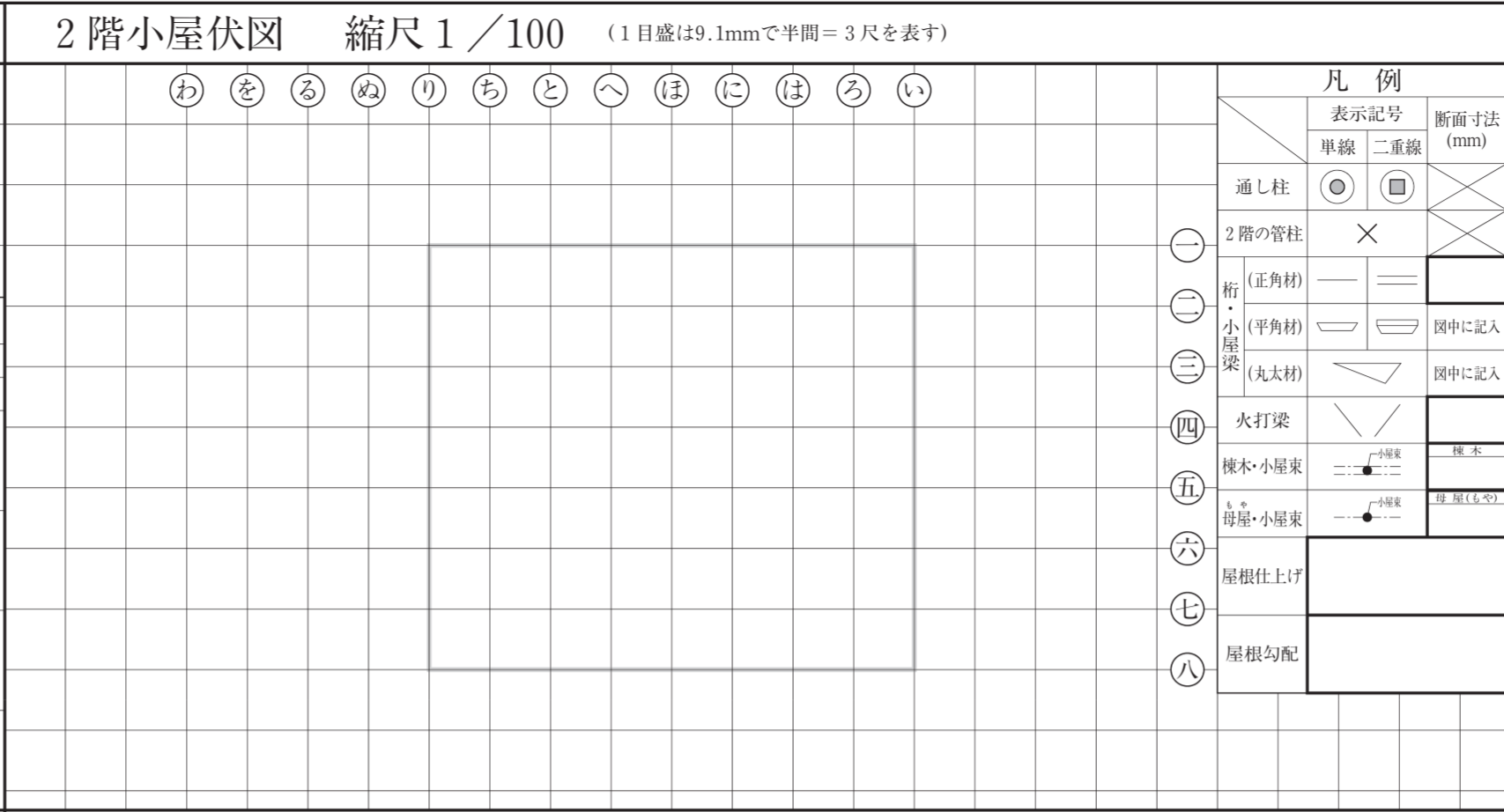
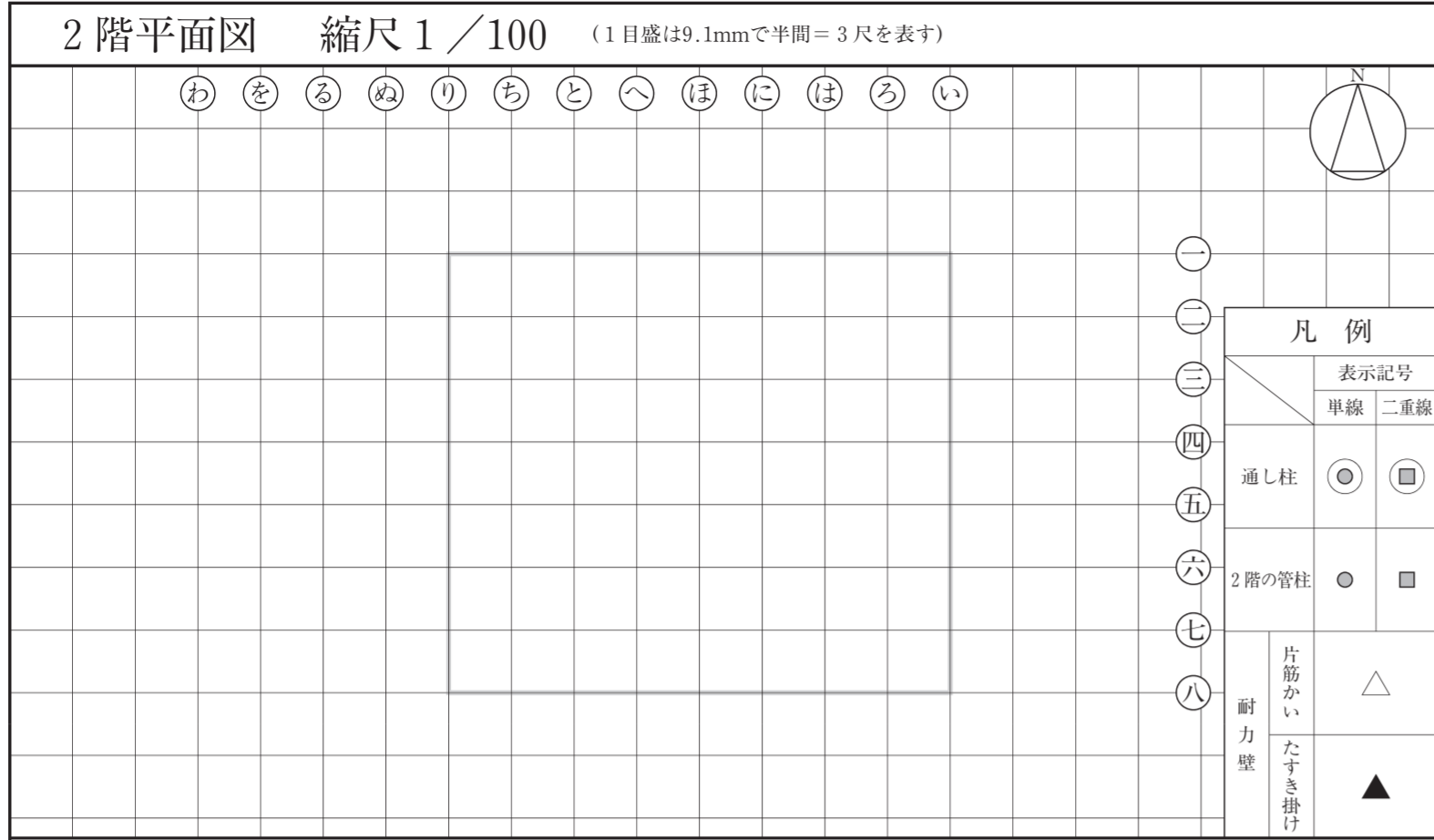
〔注 意 事 項〕

1. 問題用紙は、1 枚です。
2. 答案用紙は、2 枚あります。
 「答案用紙 A」: 柱杖^{はしらづえ}図を選択した場合の 1 枚。
 「答案用紙 B」: 矩計図を選択した場合の 1 枚。
3. この封筒、問題用紙、「答案用紙 A」及び「答案用紙 B」の 4 箇所全てに、試験場、受験番号及び氏名を記入して下さい。
4. 試験開始後、選択要求図書において、柱杖^{はしらづえ}図を選択した場合は「答案用紙 A」を、矩計図を選択した場合は「答案用紙 B」を使用し、この封筒の答案用紙の選択欄にある答案用紙 A・答案用紙 B のいずれか一つを○で囲んで下さい。
5. 選択しなかった答案用紙 (1 枚) は、この封筒に入れて下さい。
6. 試験開始 90 分経過後、選択しなかった答案用紙 (1 枚) を入れたこの封筒を回収しますので、それまで (試験開始後 90 分) の間に答案用紙の選択を行って下さい。なお、回収後は答案用紙の選択の変更は一切できません。
7. 問題用紙については、試験終了まで試験室に在室した者に限り、持ち帰りを認めます (中途退出者については、持ち帰りを禁止します)。

試 験 場	受 験 番 号	-	氏 名	答案用紙の選択	選択した答案用紙を○で囲んで下さい。	
					答案用紙 A	答案用紙 B

[この答案用紙は、柱杖図を選択した場合の専用答案用紙です。]

はしらづえ 柱杖図 縮尺 1/10 (1目盛は30.3mmで1尺を表す) A



試験場 受験番号

氏名

※右欄には記入しないこと。

主要構造部材表 [木拾い書]

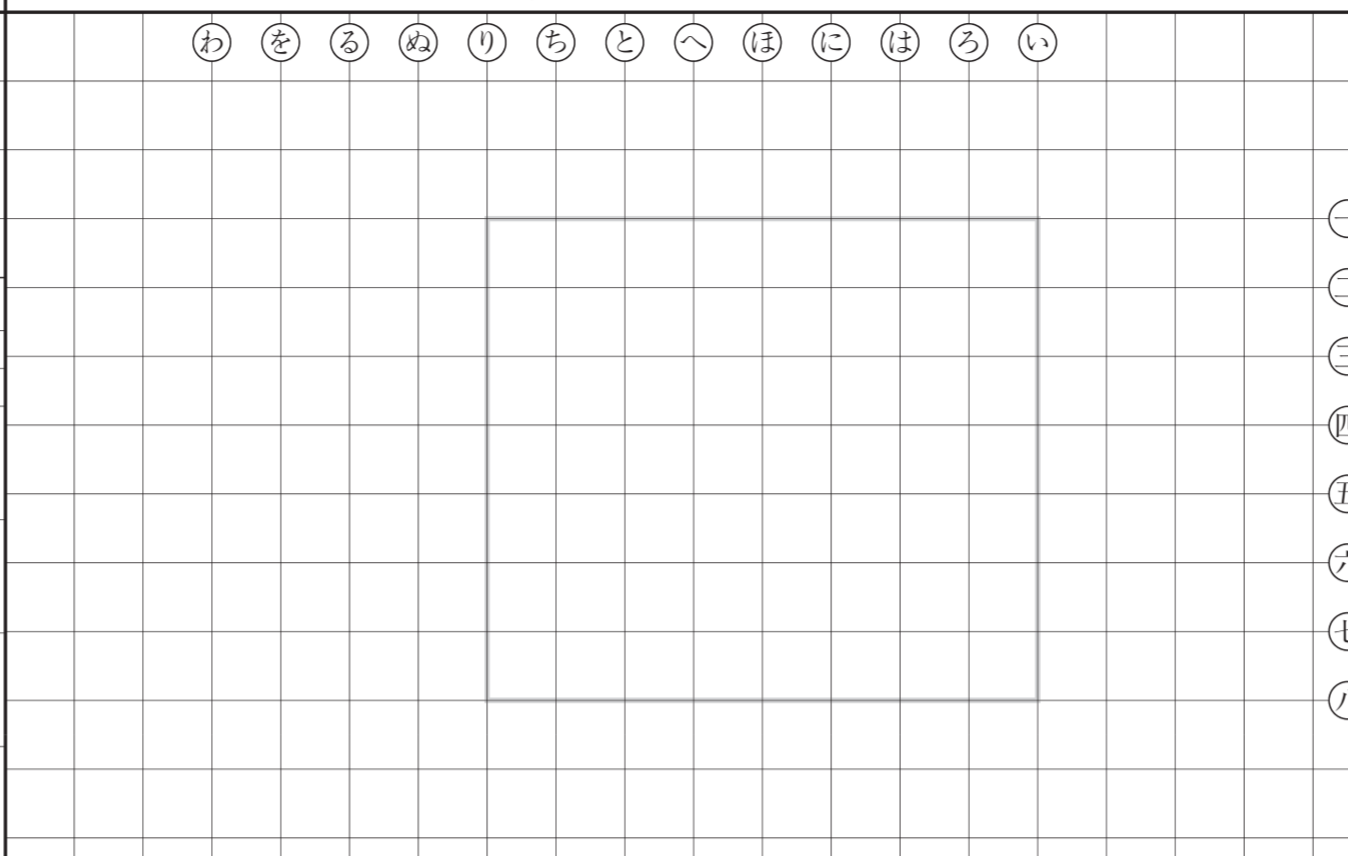
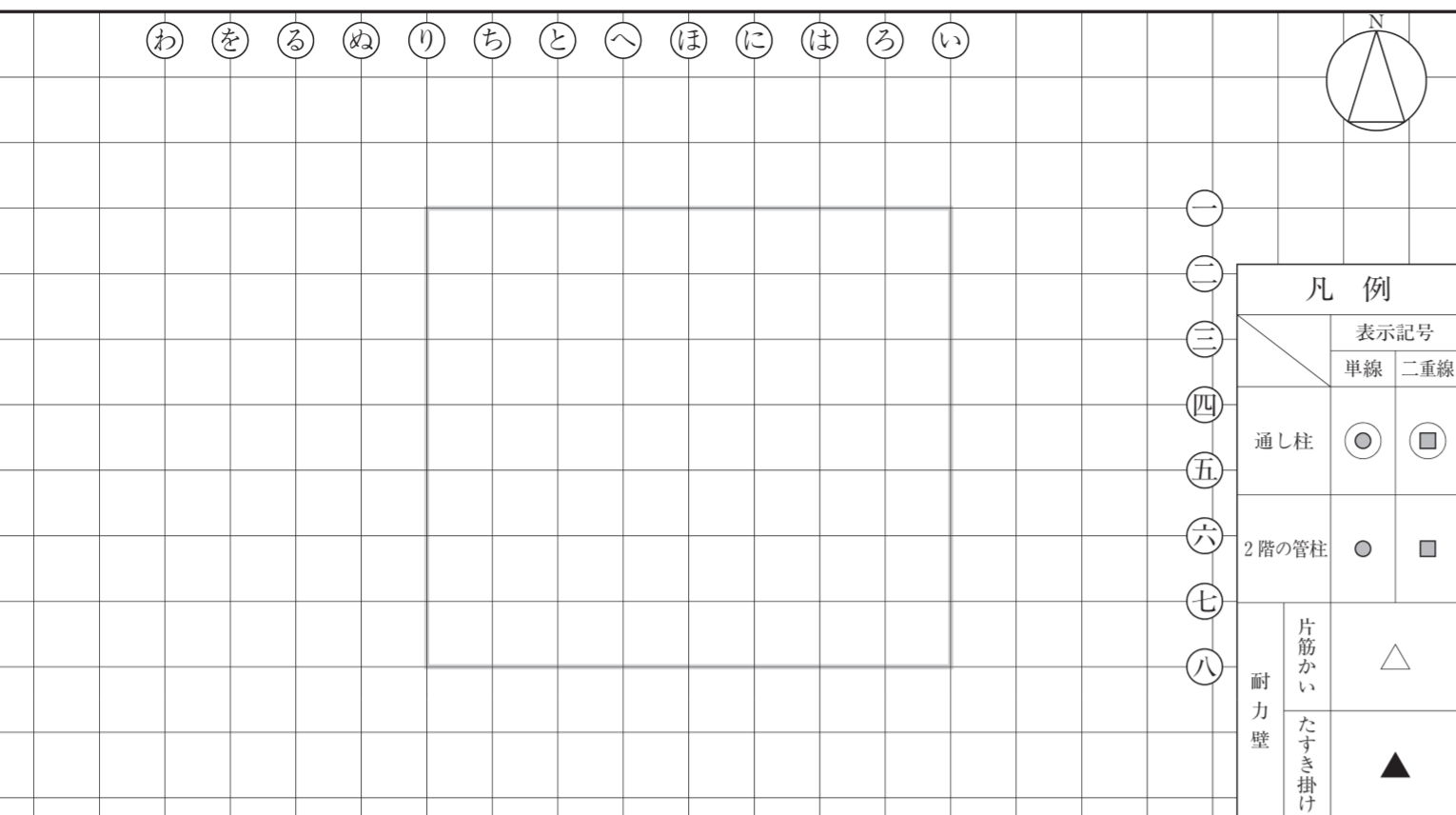
2階床伏図兼1階小屋伏図における割差、2階床梁、桁及び1階小屋梁について、平角材、丸太材の木拾いを行い、下欄に記入すること。なお、正角材は木拾いを行わなくてよい。

部材名称	断面寸法 (mm)	定尺長さ (mm)	本数	断面寸法 (mm)	定尺長さ (mm)	本数	断面寸法 (mm)	定尺長さ (mm)	本数	断面寸法 (mm)	定尺長さ (mm)	本数
割差	幅 × せい			幅 × せい			幅 × せい			幅 × せい		
2階床梁	幅 × せい			幅 × せい			幅 × せい			幅 × せい		
桁	幅 × せい			幅 × せい			幅 × せい			幅 × せい		
1階小屋梁												

凡例	部材名称	合 印	部材名称	合 印
	割差・桁	☒	回り縁	☒
	土台	☒	鴨居(下端)	☒
			敷居(上端)	☒

2階平面図 縮尺 1/100 (1目盛は9.1mmで半間=3尺を表す)


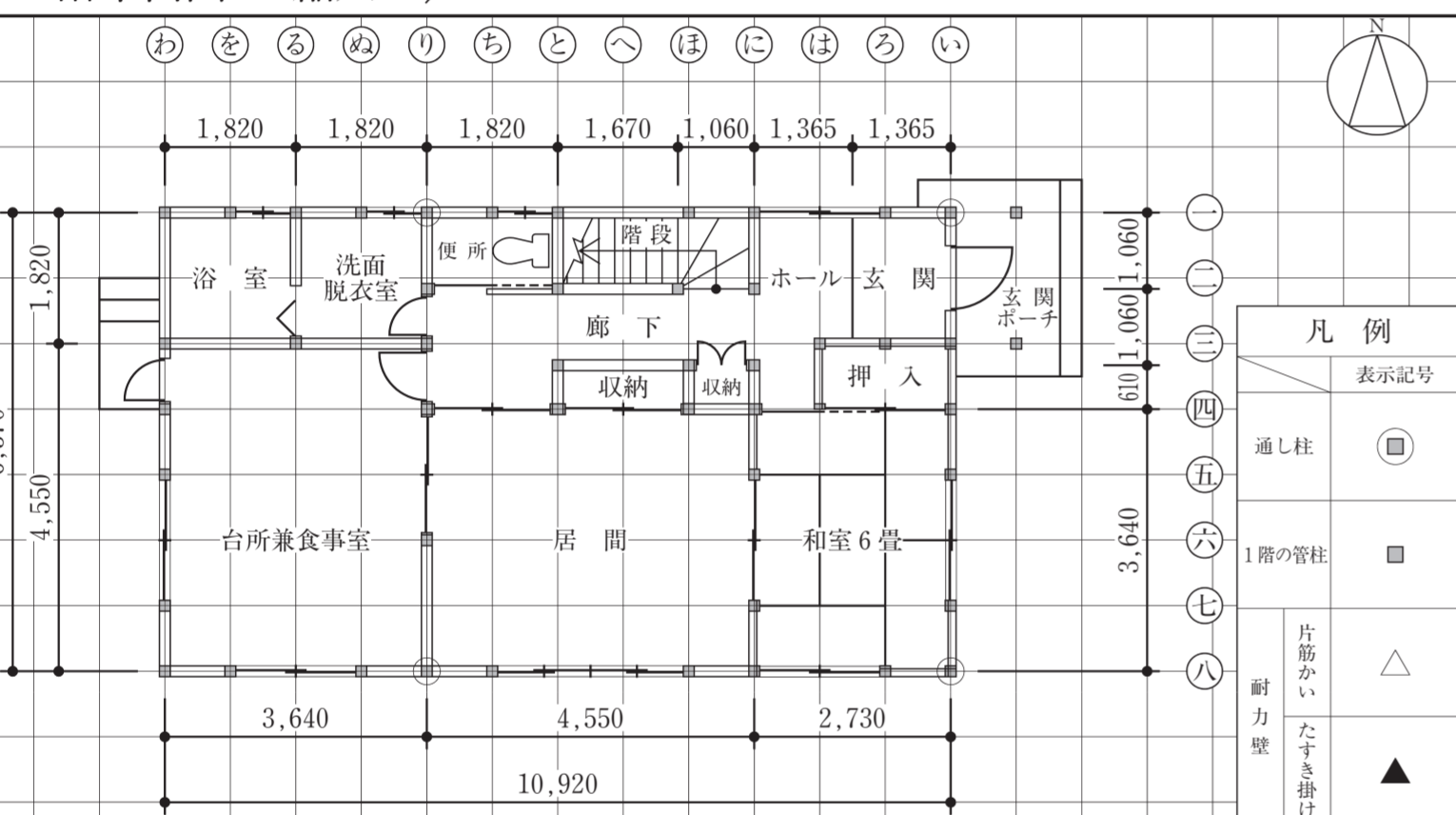
2階小屋伏図 縮尺 1/100 (1目盛は9.1mmで半間=3尺を表す)



凡例	表示記号		断面寸法 (mm)
	単線	二重線	
通し柱	○	■	×
2階の管柱	●	■	×
桁 (正角材)	—	—	
桁 (平角材)	—	—	図中に記入
小屋梁 (丸太材)	—	—	図中に記入
火打梁	—	—	
棟木・小屋束	—	—	棟木
母屋・小屋束	—	—	母屋(上向き)
屋根仕上げ			
屋根勾配			

1階平面図 縮尺 1/100 (1目盛は9.1mmで半間=3尺を表す)

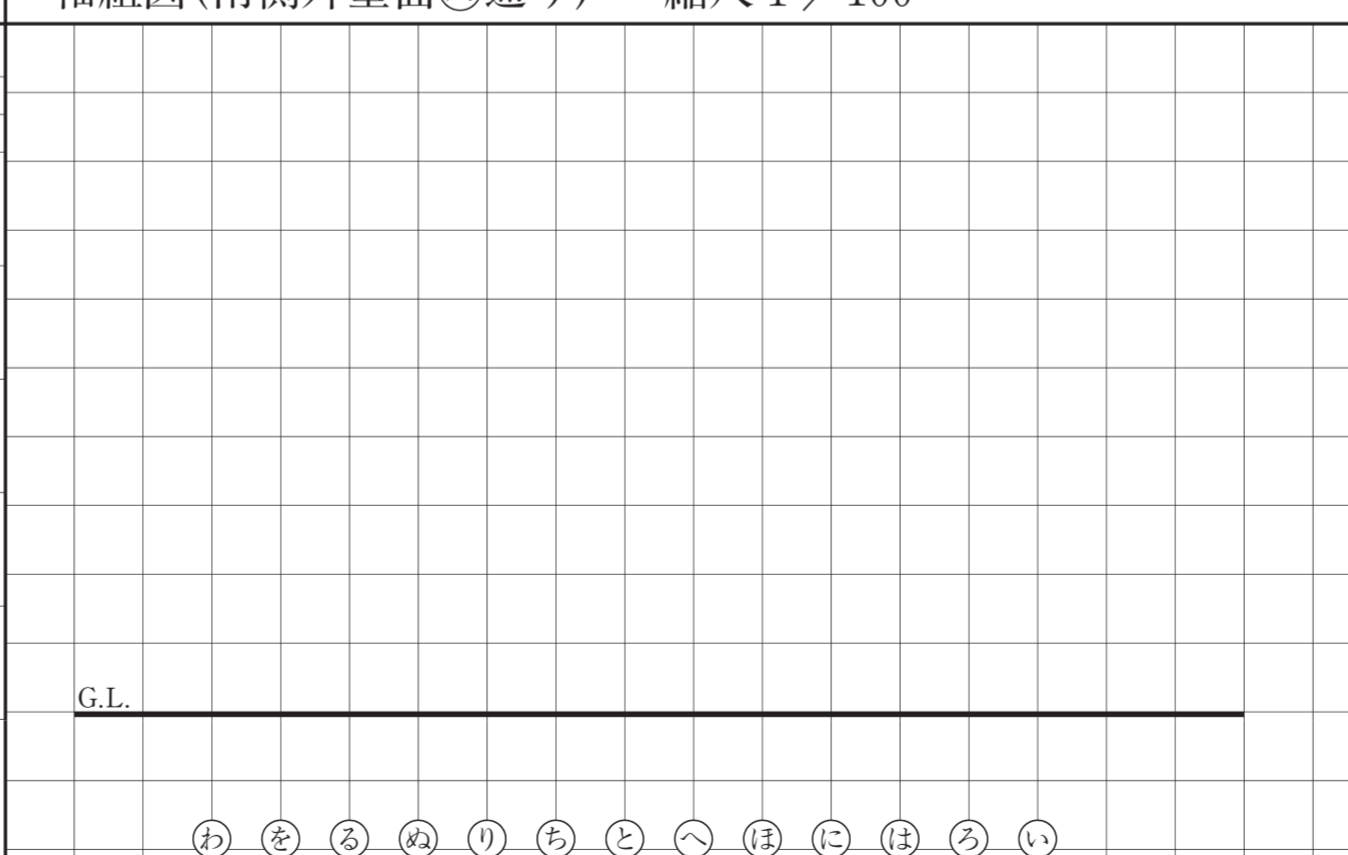
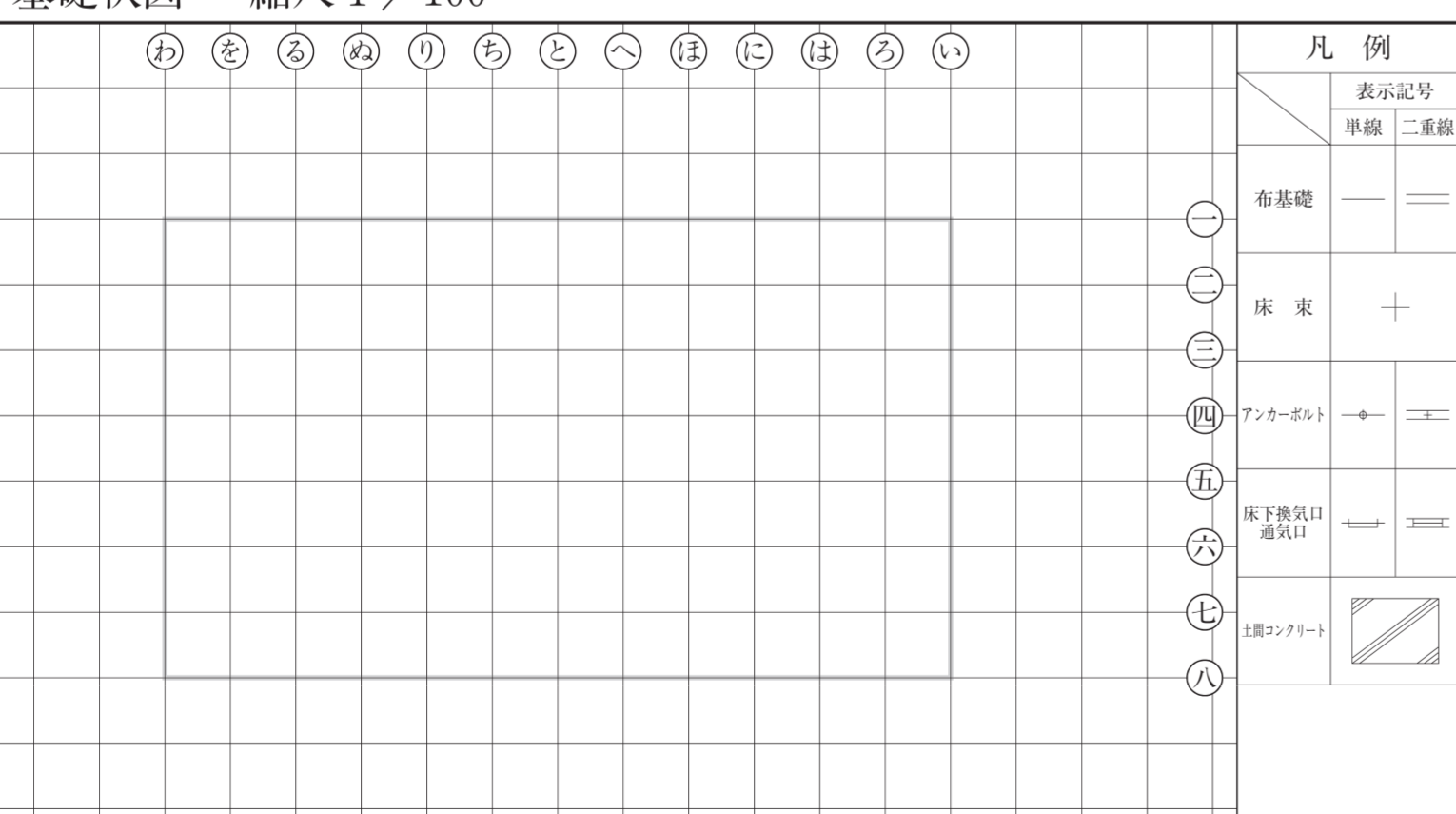
2階床伏図兼1階小屋伏図 縮尺 1/100 (1目盛は9.1mmで半間=3尺を表す)



凡例	表示記号		断面寸法 (mm)
	単線	二重線	
通し柱	○	■	
1階の管柱	○	■	×
2階の管柱	●	■	×
1階と2階が重なる管柱	⊗	⊗	×
桁 (正角材)	—	—	
桁 (平角材)	—	—	図中に記入
小屋梁 (丸太材)	—	—	図中に記入
火打梁	—	—	
棟木・小屋束	—	—	棟木
母屋・小屋束	—	—	母屋(上向き)
屋根仕上げ			
屋根勾配			

基礎伏図 縮尺 1/100 (1目盛は9.1mmで半間=3尺を表す)

軸組図(南側外壁面⑧通り) 縮尺 1/100 (1目盛は9.1mmで半間=3尺を表す)



凡例	表示記号		断面寸法 (mm)
	単線	二重線	
布基礎	—	—	×
土台	—	—	
通し柱			×
管柱			×
桁 (正角材)	—	—	×
桁 (平角材)	—	—	図中に記入
筋かい	∖	/	
開口部	⊗	⊗	×
継手位置	—	—	×

試験場 _____ 受験番号 _____

氏名 _____

※右欄には記入しないこと。

主要構造部材表 [木拾い書]												
2階床伏図兼1階小屋伏図における割差、2階床梁、桁及び1階小屋梁について、平角材、丸太材の木拾いを行い、下欄に記入すること。なお、正角材は木拾いを行わなくてよい。												
部材名称	断面寸法 (mm)	定尺長さ (mm)	本数	断面寸法 (mm)	定尺長さ (mm)	本数	断面寸法 (mm)	定尺長さ (mm)	本数	断面寸法 (mm)	定尺長さ (mm)	本数
割差	幅 × せい			幅 × せい			幅 × せい			幅 × せい		
2階床梁	幅 × せい			幅 × せい			幅 × せい			幅 × せい		
桁	幅 × せい			幅 × せい			幅 × せい			幅 × せい		
1階小屋梁												

平成26年 木造建築士試験「設計製図の試験」
 ×
 ×
 答案用紙 B
 ×
 ×