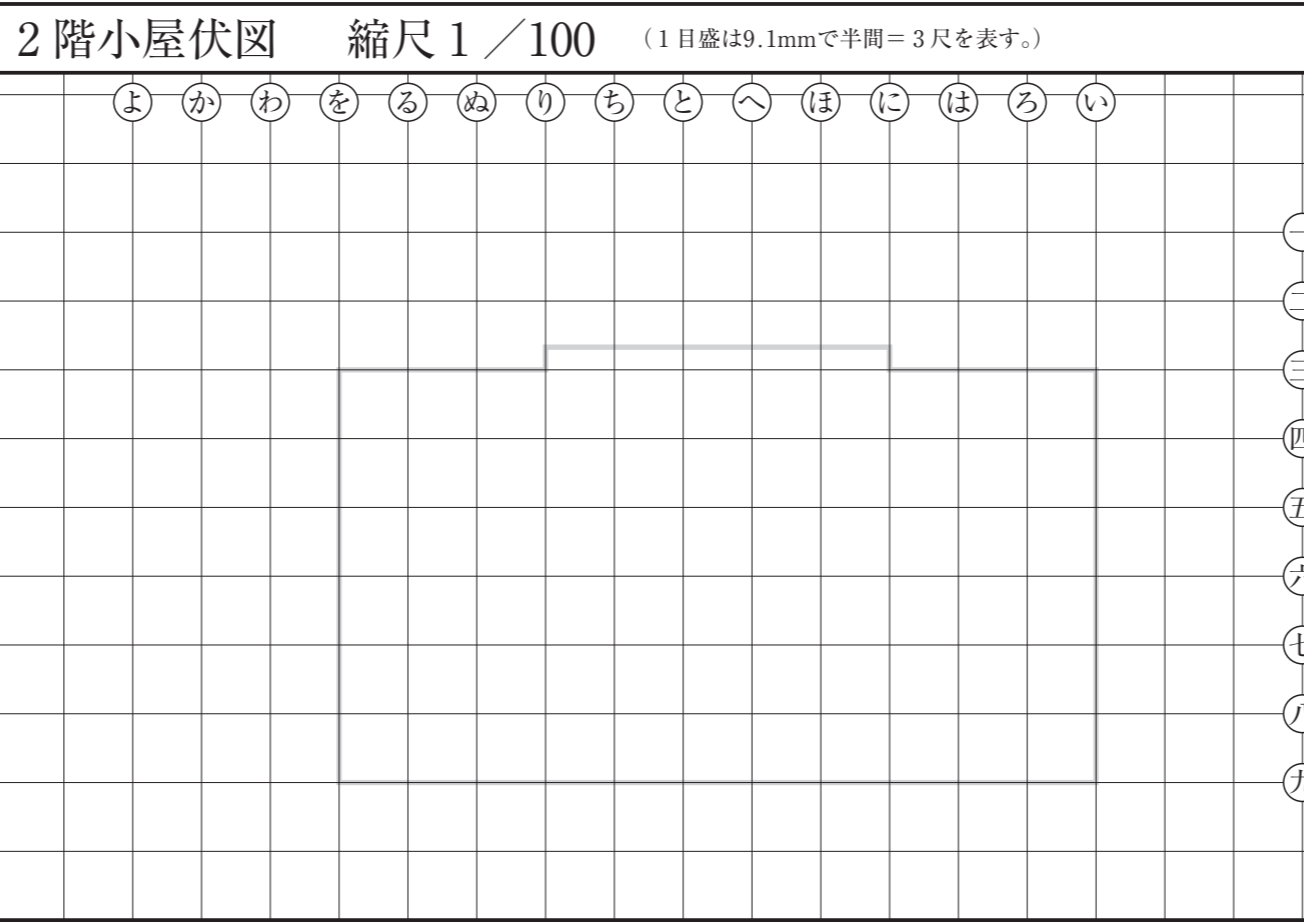
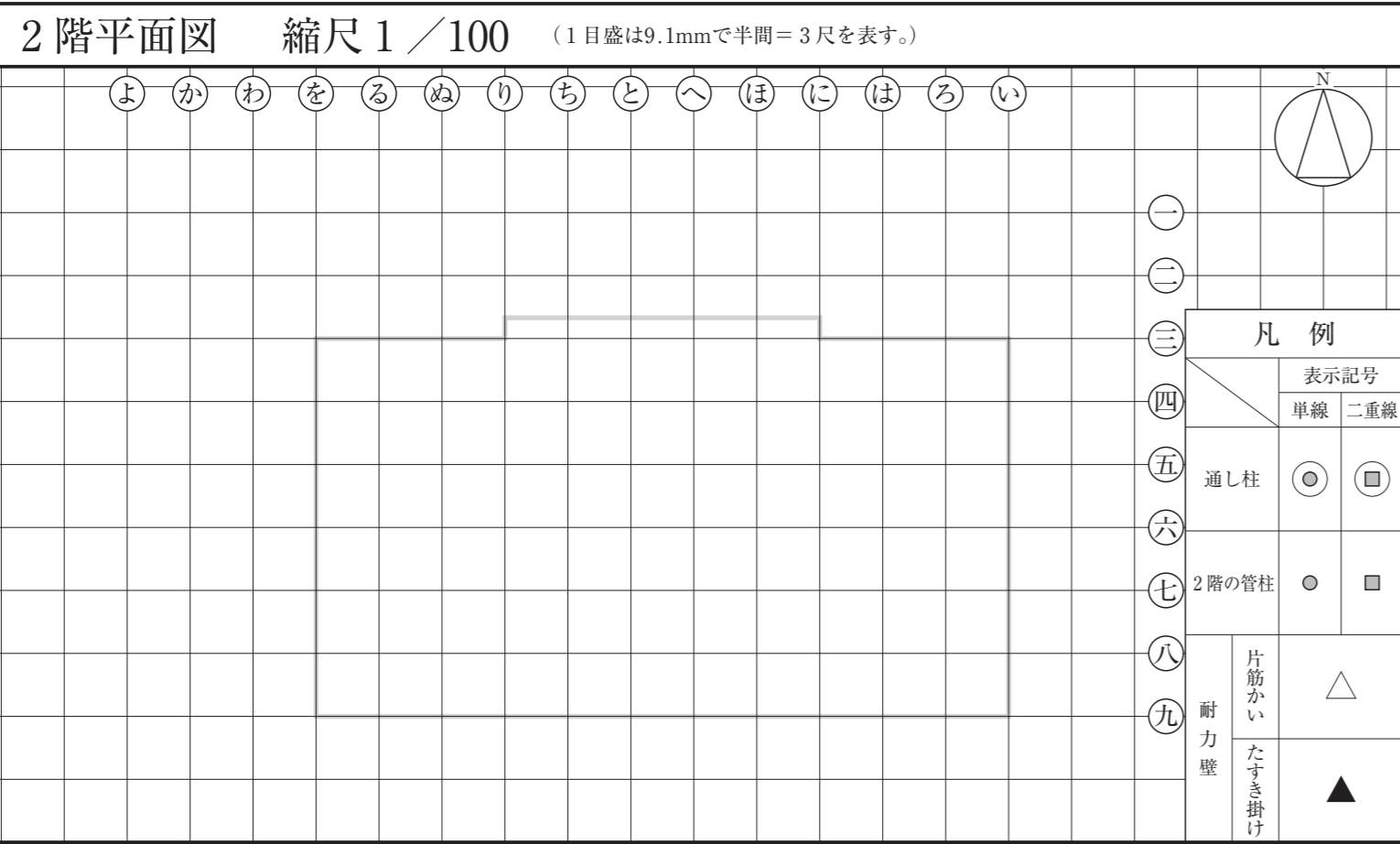
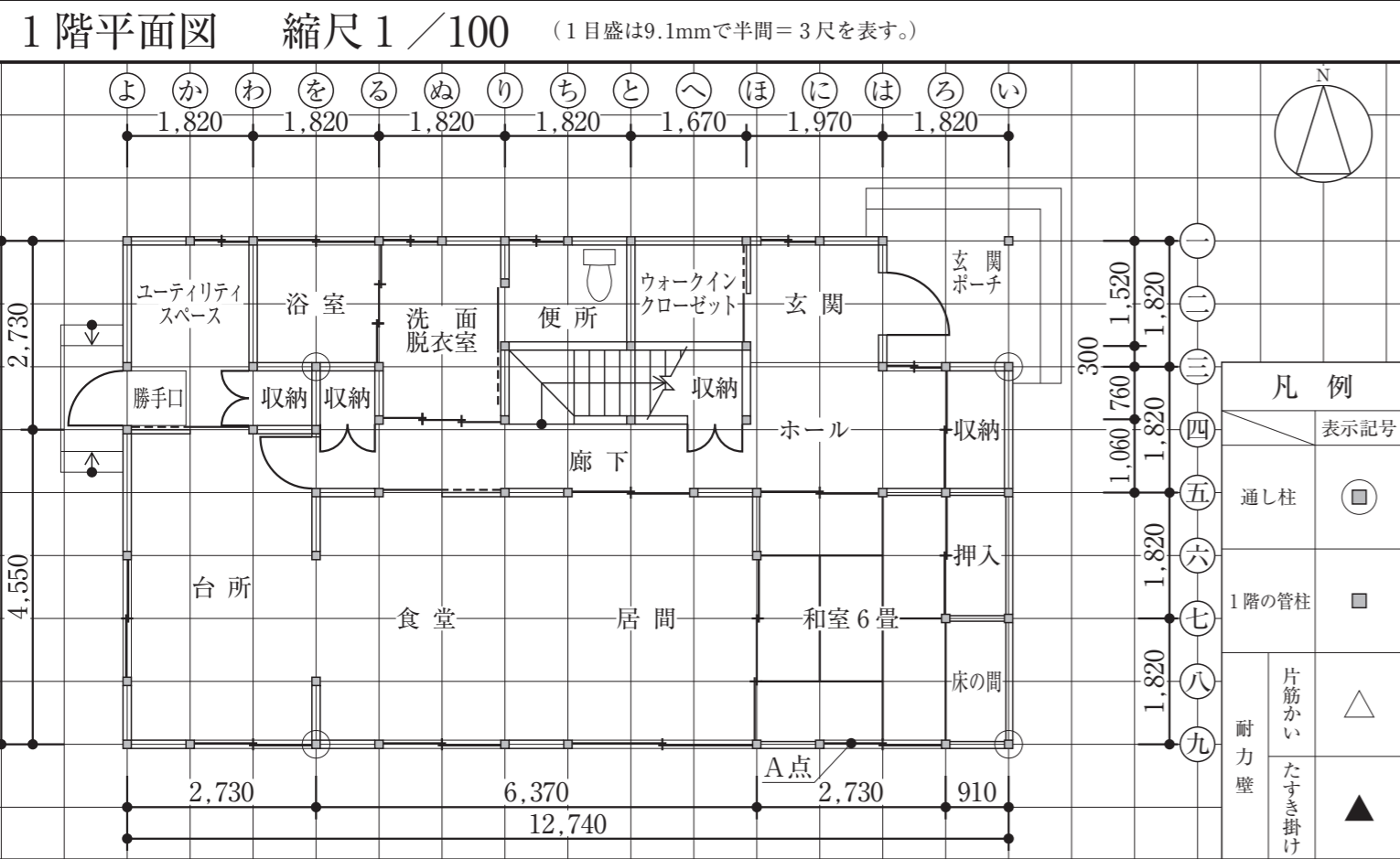


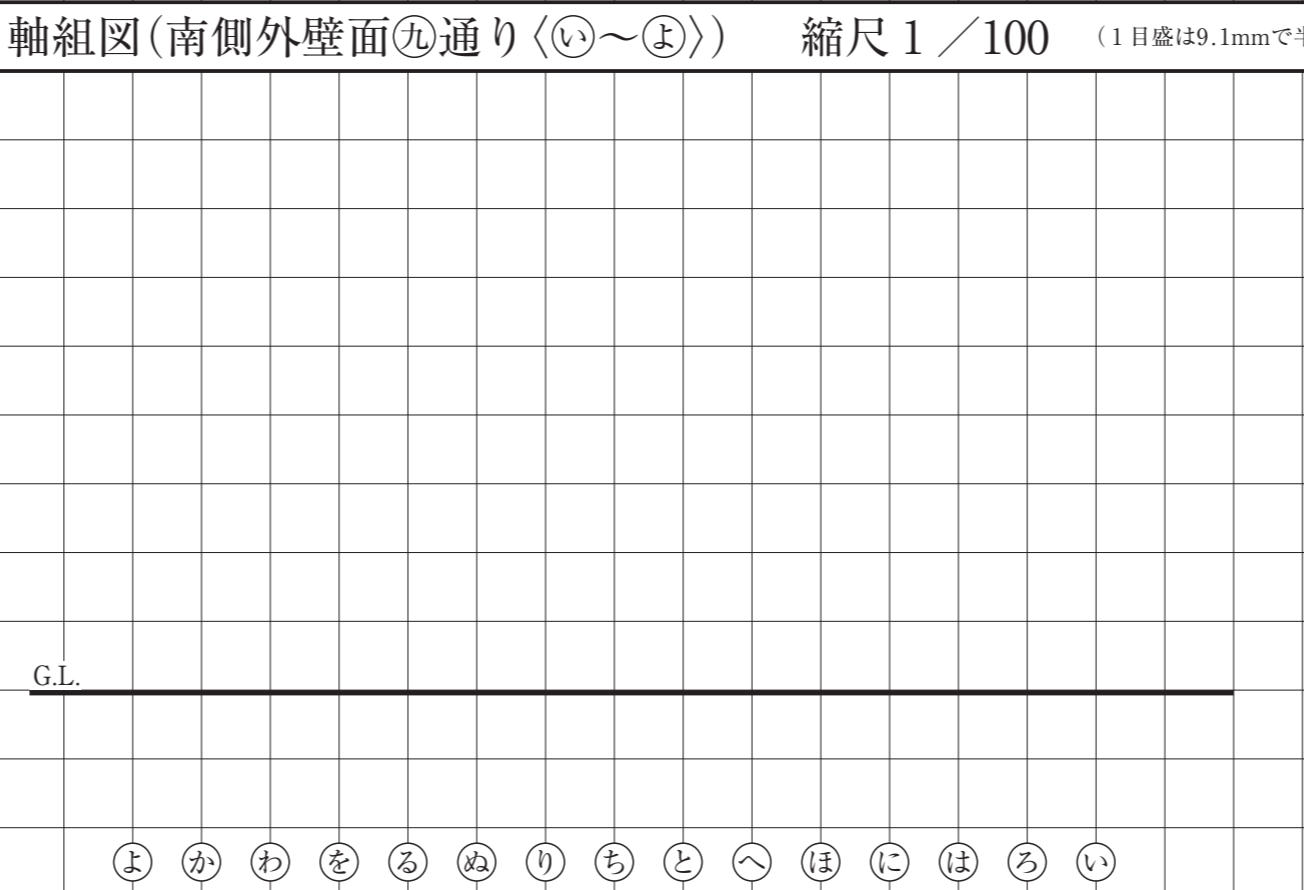
[この答案用紙は、柱杖図を選択した場合の専用答案用紙です。]



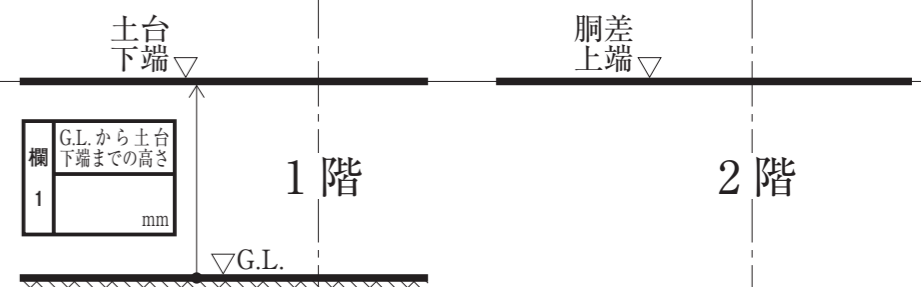
凡例	表示記号		断面寸法 (mm)
	単線	二重線	
通し柱	○	□	
2階の管柱	●	■	
桁 (正角材)	—	—	
小屋梁 (平角材)	∩	∩	図中に記入
小屋梁 (丸太材)	∩	∩	図中に記入
火打梁	∩	∩	
棟木・小屋束	—	—	棟木
隅木・小屋束	—	—	隅木
母屋・小屋束	—	—	母屋
屋根仕上げ			
屋根勾配			



凡例	表示記号		断面寸法 (mm)
	単線	二重線	
通し柱	○	□	
1階の管柱	●	■	
2階の管柱	●	■	
1階と2階が重なる管柱	⊗	⊗	
桁 (正角材)	—	—	
小屋梁 (平角材)	∩	∩	図中に記入
小屋梁 (丸太材)	∩	∩	図中に記入
火打梁	∩	∩	
棟木・小屋束	—	—	棟木
隅木・小屋束	—	—	隅木
母屋・小屋束	—	—	母屋
屋根仕上げ			
屋根勾配			



凡例	表示記号		断面寸法 (mm)
	単線	二重線	
布基礎	—	—	
土台	—	—	
通し柱			
脚差 (正角材)	—	—	
桁 (平角材)	∩	∩	図中に記入
筋かい	∩	∩	45×90
開口部	⊗	⊗	
継手位置	—	—	



試験場 \_\_\_\_\_ 受験番号 \_\_\_\_\_

はしらづえ  
柱杖図を選択した場合の専用答案用紙です。

氏名 \_\_\_\_\_

※右欄には記入しないこと。	1	2	3	4
---------------	---	---	---	---

主要構造部材表 [木拾い書] 2階床伏図兼1階小屋伏図における脚差、2階床梁、桁及び1階小屋梁について、平角材、丸太材の木拾いを行い、下欄に記入すること。なお、正角材は木拾いを行わずによい。

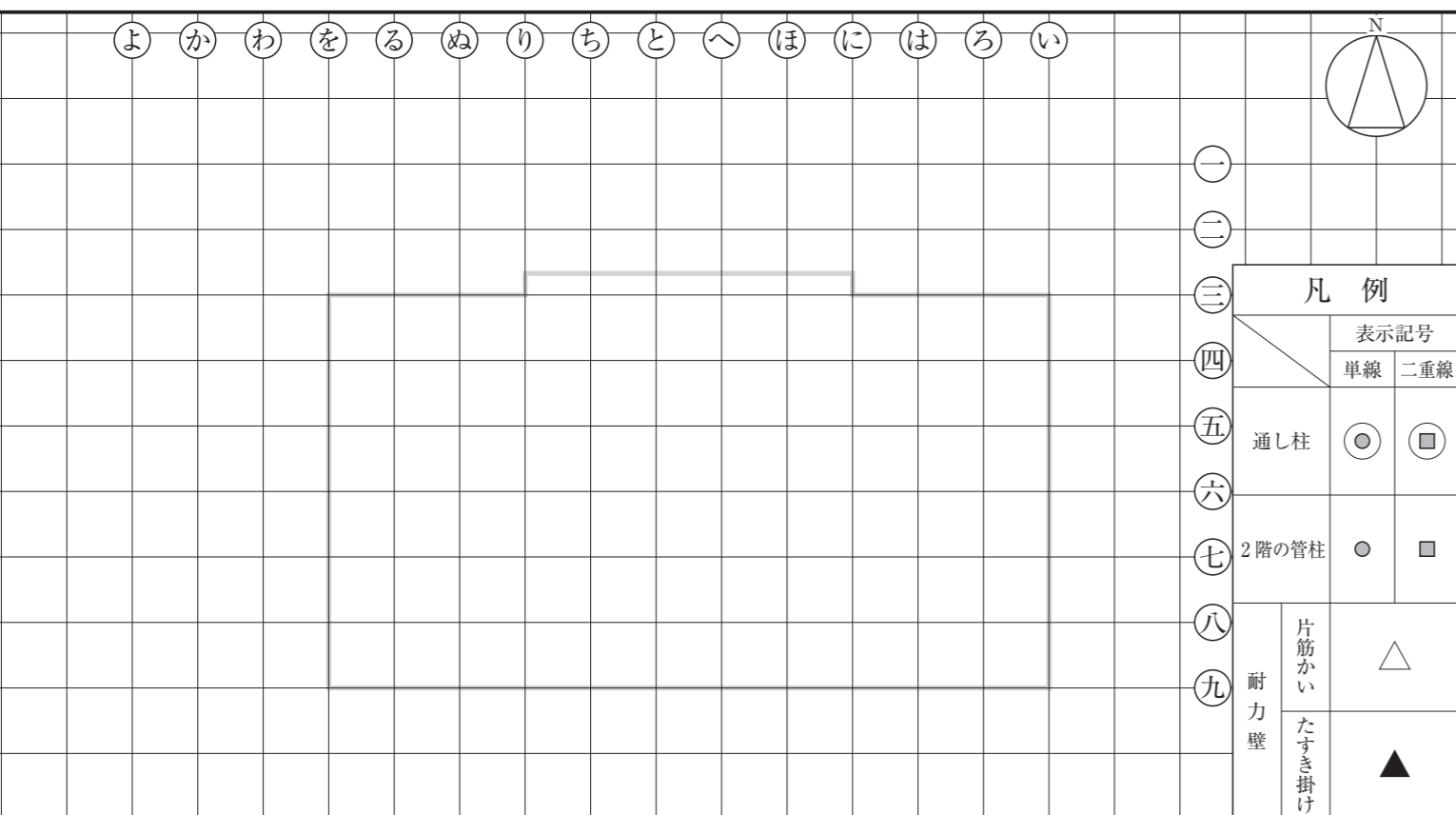
部材	断面寸法 (mm)			定尺長さ (mm)			本数		
	幅	×	せい	幅	×	せい	幅	×	せい
脚差	幅	×	せい	幅	×	せい	幅	×	せい
2階床梁	幅	×	せい	幅	×	せい	幅	×	せい
桁	幅	×	せい	幅	×	せい	幅	×	せい
1階小屋梁	幅	×	せい	幅	×	せい	幅	×	せい

凡例	部材名称	合印	部材名称	合印
		脚差・桁	⊗	回り縁
	土台	⊗	鴨居(下端)	⊗
	貫	⊗	敷居(上端)	⊗

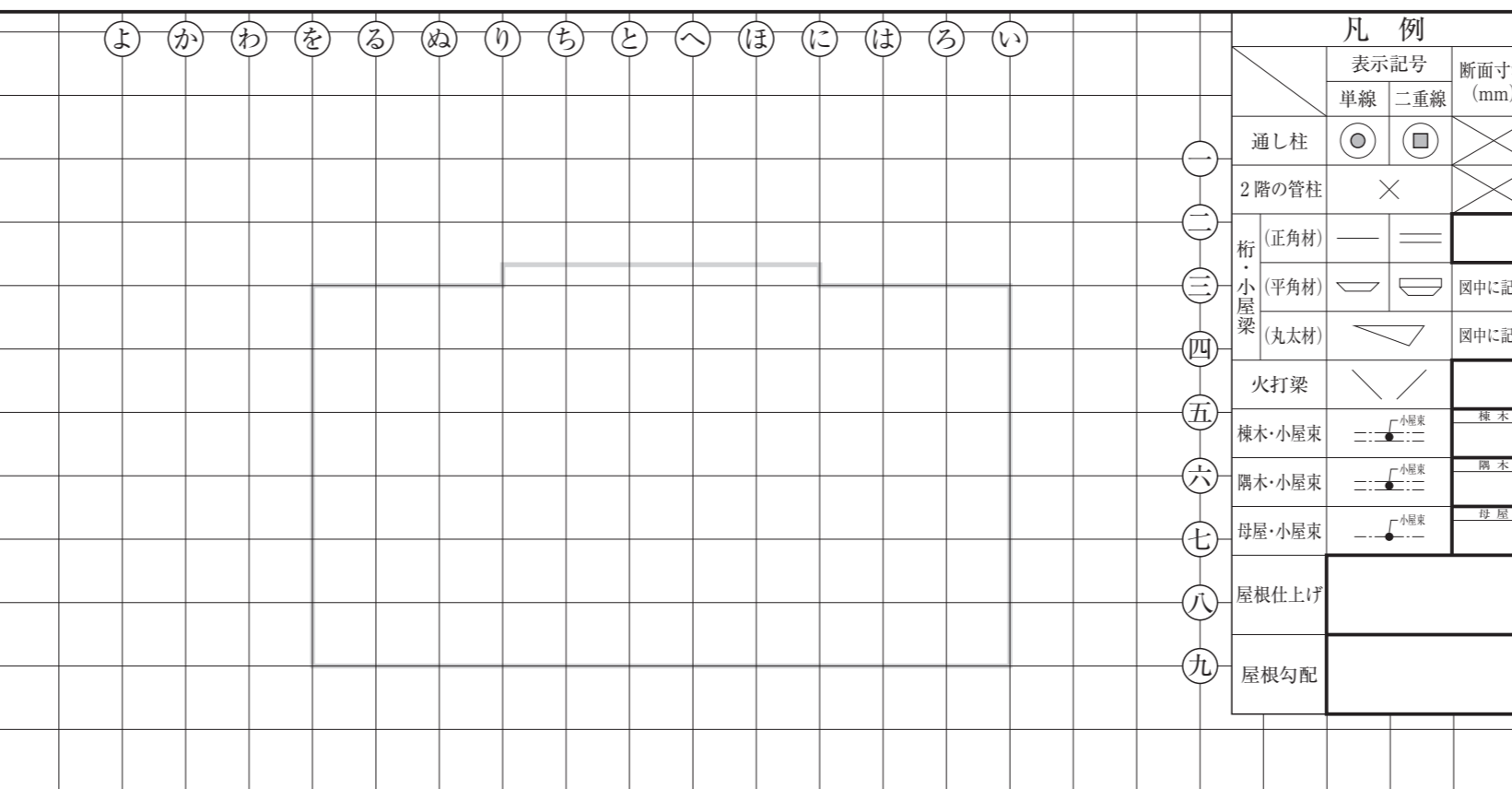
令和3年 木造建築士試験「設計製図の試験」

答案用紙 A

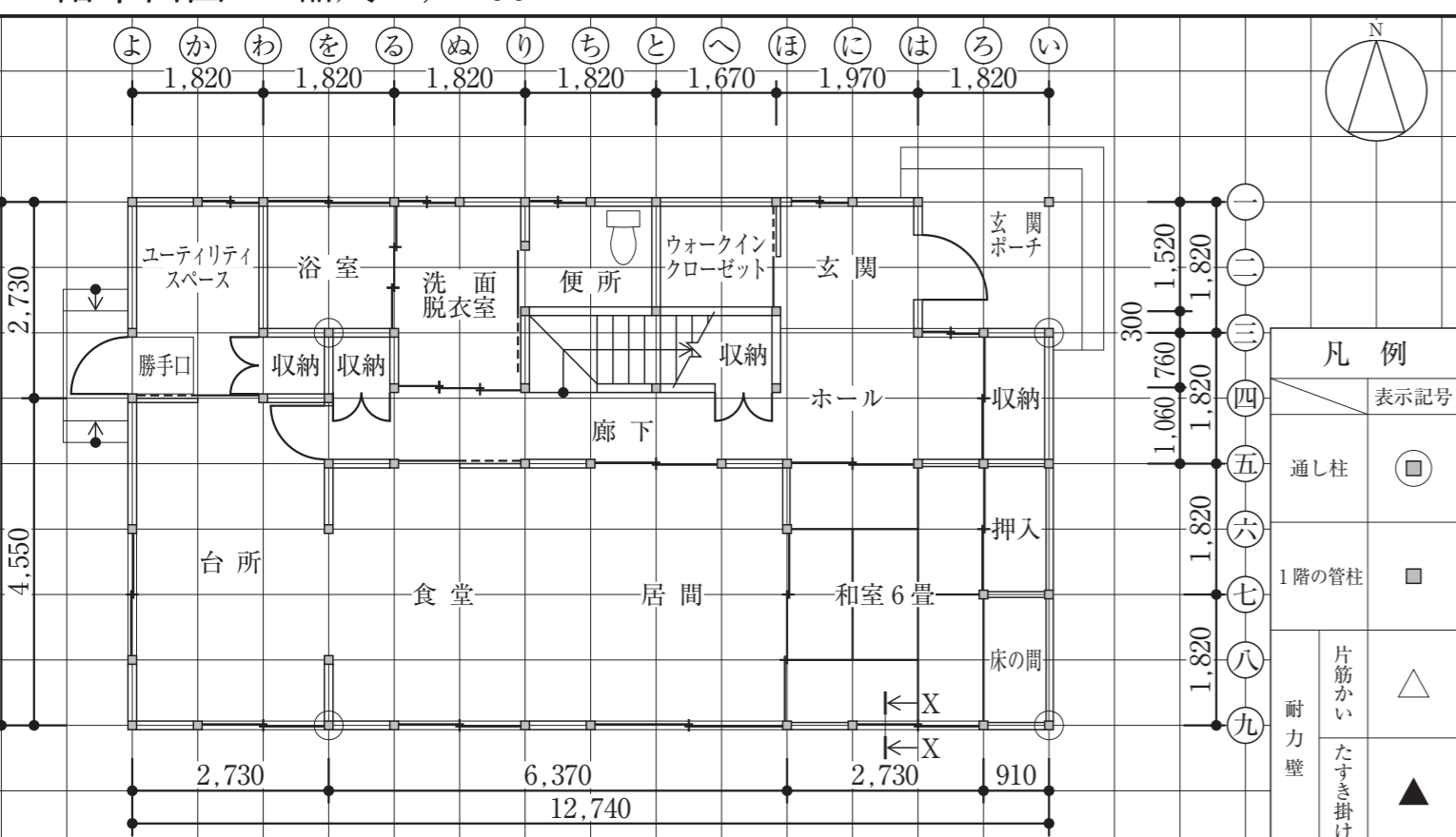
2階平面図 縮尺 1/100 (1目盛は9.1mmで半間=3尺を表す。)




2階小屋伏図 縮尺 1/100 (1目盛は9.1mmで半間=3尺を表す。)




1階平面図 縮尺 1/100 (1目盛は9.1mmで半間=3尺を表す。)



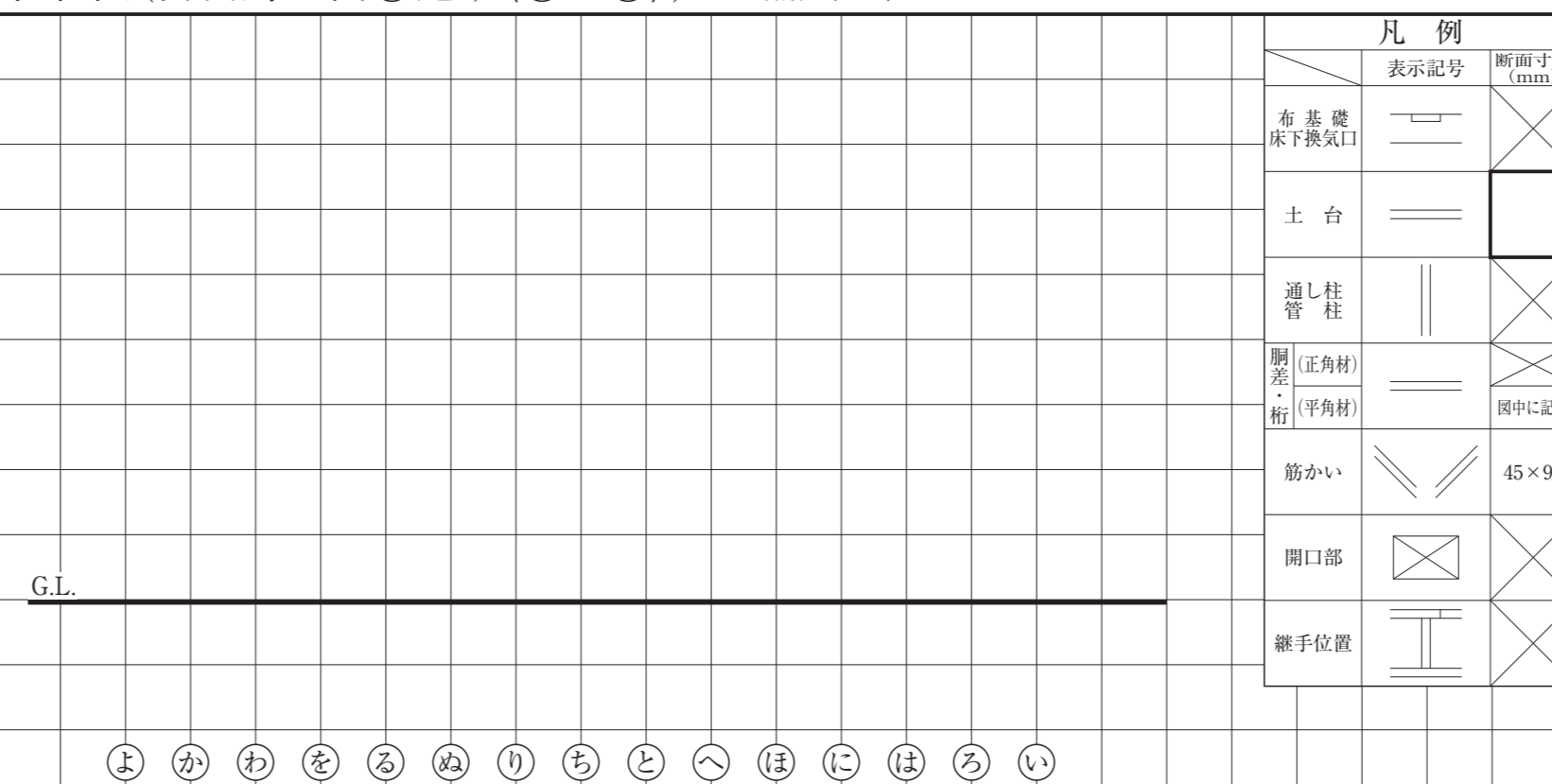
2階床伏図兼1階小屋伏図 縮尺 1/100 (1目盛は9.1mmで半間=3尺を表す。)



基礎伏図 縮尺 1/100 (1目盛は9.1mmで半間=3尺を表す。)



軸組図(南側外壁面⑨通り<④~⑤>) 縮尺 1/100 (1目盛は9.1mmで半間=3尺を表す。)



試験場 \_\_\_\_\_ 受験番号 \_\_\_\_\_

氏名 \_\_\_\_\_

※右欄には記入しないこと。

1	2	3	4
---	---	---	---

主要構造部材表[木拾い書] 2階床伏図兼1階小屋伏図における胴差、2階床梁、桁及び1階小屋梁について、平角材、丸太材の木拾いを行い、下欄に記入すること。なお、正角材は木拾いを行わなくてよい。

部 材	断面寸法(mm)	定尺長さ(mm)	本数	断面寸法(mm)	定尺長さ(mm)	本数	断面寸法(mm)	定尺長さ(mm)	本数
胴 差	幅 × せい			幅 × せい			幅 × せい		
2階床梁	幅 × せい			幅 × せい			幅 × せい		
桁	幅 × せい			幅 × せい			幅 × せい		
1階小屋梁	幅 × せい			幅 × せい					

令和3年 木造建築士試験「設計製図の試験」

答案用紙 B